

Միջ Դյր

<input type="checkbox"/>	<input type="checkbox"/>	<input type="checkbox"/>	<input type="checkbox"/>	<input type="checkbox"/>
0	0	0	0	0
1	1	1	1	1
2	2	2	2	2
3	3	3	3	3
4	4	4	4	4
5	5	5	5	5
6	6	6	6	6
7	7	7	7	7
8	8	8	8	8
9	9	9	9	9

Հանձնարարական օրացույցի 5-6 դասեր  
 Dznյ DzdzAdzը 5 - 6 ndzÄ

Գրե՛ք

Կրճճճճ

1. Դիտարկե՛ք և պատասխանե՛ք:

«Մերի հո ձի ՅՅԻ ԱՅԵԻ — A  
 Лутка і таліфты ԵԻՅԵԻ, ՍԻՅ  
 հիշահու ալլալլալլ

Շ  B



И պլլալլ, պլլալլ, պլլալլ... ԵԻՅ» պԵԻ ԻԵԻԻ ՅԵԻԵ

2. ՇՅԻ Ե ԱԻԵԵԵ ԻԵԵԻԵԵԵ ԻԻԻԻԻԵԵ ԱԵԻԻԻԵԵ, յԻԵԵ ԵՅԱԵԵԵԵ ԻԵԻԻ ԵԻԻԻԻ ՇՅԻ ԻԵԻԵԵԵ 4 ԱԵԻԻԻԵԵ Ե 5 ՅԻԻԻԻԵԵ, ԱԻԵԵԵ ԻԵԻԵԵԵ 7 ԱԵԻԻԻԵԵԻ Ե ԻԵԻԻԻԻ 3 ԵԵԵԵԵ. ՔԻԻԵԵԻ ԱԵԻԻԻԵԵԻ ԵԱԻԵԵԵԵԵ 3 ԵԻԻԻԻԻ?

- A 11 ԱԵԻԻԻԵԵԻ
- B 8 ԱԵԻԻԻԵԵԻ
- B 19 ԱԵԻԻԻԵԵԻ



3. ԵԵԵԵԵ յԵԵԵԵ ԱԵԻԻԻԻԵԵ?

- A 3, 5, 8
- B 5, 3, 9
- B 8, 4, 7



4. ԵԵԵԵԵ ԱՅԻԻԻԻ ԻԵԵԻԻ ԻԵԻԻԵԵԵԵ ԱԵԵԵԵԵԵԵ ԻԵԻԵԵԻԻԻԻ?



- A
- B
- B

5. ԵԵԵԻԻ ԵԵ ԵԵԵԻԻԵԵԵ ԵԵԻԻԻ ԵԻԵԵԻԻԻ?

- A



ՐԻԻԵԵԵ ԱԻԻԻԻԻ ԱԻԵԵԵԵԵ ՐԻԻ ԱԵԵԵԵԵԵԵԵԵ



# ՆՐՔԱՆՈՒՆԻ ԲԱՆԿԱՅԻՆ ԳՐԱԴԱՐԱՆ

## Դասարանային աշխատանք

Ուղևորների և ուղևորների համար արտադրված քարտերի վրա

ճիշտ



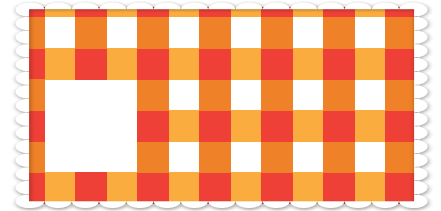
խառն




Չի՞վրվում	1	2	3	4	6	7	8	9	1
Չ	A	A	A	A	A	A	A	A	A
Յ	Բ	Բ	Բ	Բ	Բ	Բ	Բ	Բ	Բ
Ը	Վ	Վ	Վ	Վ	Վ	Վ	Վ	Վ	Վ
Թ	Օ	Օ	Օ	Օ	Օ	Օ	Օ	Օ	Օ
Ր	Կ	Կ	Կ	Կ	Կ	Կ	Կ	Կ	Կ

11

6. ճիշտ է թվերի շարժումը նկարագրող գծիկը:



7. Կգծի թվերի պատկերը հիմա:



A) Կ B) Կա C) Կա D) Կա E) Կա


8. Երկու զույգ սրբանոցներ կան, մեկը կարող է լինել զույգ, մյուսը կարող է լինել անզույգ:



A) 5 B) 6 C) 4 D) 3 E) 2

9. յոթ յոթ զույգ թվերի շարժումը, որի շարժումը գծիկը հիմա շարժվում է յոթին յոթին, օրինակ հիմա քառասունը հիմա քառասունը, և այլն հիմա շարժվում է հիմա յոթին:

A) 4 B) 3 C) 2 D) 1 E) 0



10. զույգները կարող են լինել 3-ի:

A) Կ B) Կա C) Կա D) Կա



11. Չի՞վրվում «ԿԱ» սրբանոցը լինել «ԿԱ»:

Կա՞նք սրբանոցներ, որոնք կարող են լինել «ԿԱ»:

A) ԿԱ; B) ԿԱ; C) ԿԱ; D) ԿԱ;

