


13.11.2017

НАЧАЛО ВЕЛИКОГО КНЯЖЕСТВА ЛИТОВСКОГО

Д/З §2

7 класс, история Беларуси

MAGNI DUCATUS
LITHUANIAE
LIVONIAE ET
MOSCOVIAE
DESCRIPTIO.



Закрепим домашнее задания

MAGNI DVCATVS
LITHIVANIAE
LIVONIAE ET
MOSCOVIAE
DESCRPTIO.

ОПРЕДЕЛИТЕ ГЕОГРАФИЧЕСКИЕ ОБЪЕКТЫ

Жемайтия (Ниж.
Понеманье)

Понеманье (Ср.
Понеманье)

Верхнее Понеманье



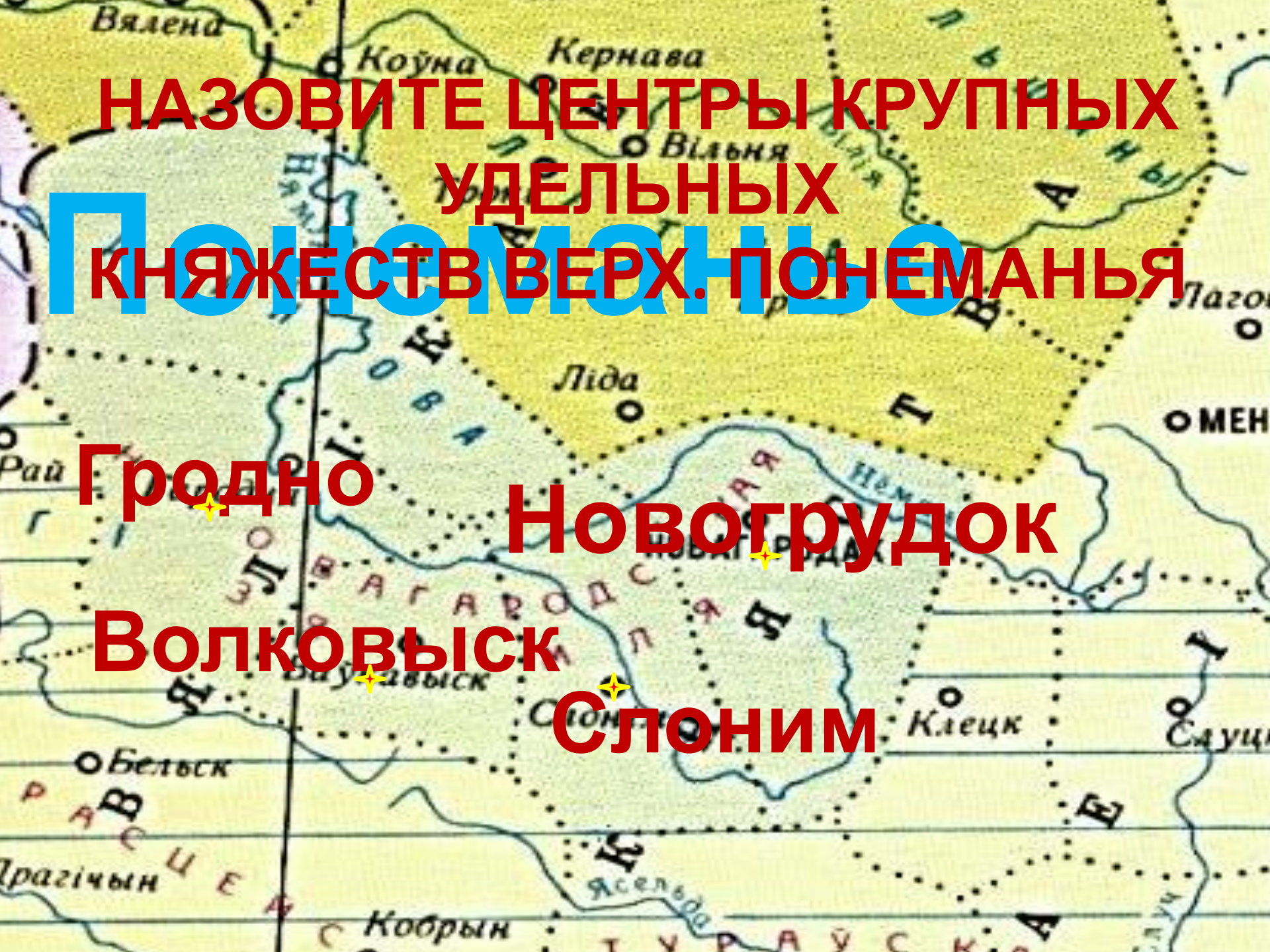
**ОПРЕДЕЛИТЕ ГЕОГРАФИЧЕСКИЕ
ОБЪЕКТЫ**

**Жемайттия
Аукштайттия
Литва**

Понемань

е



A historical map of the Polesie region in Belarus, showing various administrative districts and towns. The map is overlaid with large, bold text. The text is in Russian and identifies the centers of major fiefdoms in the Upper Polesie. The map shows towns like Vialena, Koyna, Kernava, Vialnya, Lida, and others. District names like 'Ясельда' and 'Слоним' are also visible.

**НАЗОВИТЕ ЦЕНТРЫ КРУПНЫХ
УДЕЛЬНЫХ
КНЯЖЕСТВ ВЕРХ. ПОНЕМАНЫЯ**

Полесье

Гродно

Новогрудок

Волковыск

Слоним

ОТВЕТЬТЕ НА ВОПРОСЫ

- назовите причины образования ВКЛ.
- Почему ВКЛ называют балто-славянским государством?
- Докажите, что в Верхнем Понеманье в XII-1-й пол.XIII в. существовала раннесредневековая государственность.
- Можно ли считать существование удельных княжеств в Понеманье в сер. XIII в.:
 - а) примером феодальной раздробленности;
 - б) предпосылкой образования ВКЛ?

13.11.2017

НАЧАЛО ВЕЛИКОГО КНЯЖЕСТВА ЛИТОВСКОГО

7 класс, история Беларуси

MAGNI DVCATVS
LITHVANIAE
LIVONIAE ET
MOSCOVIAE
DESCRPTIO.



**КАКИЕ СОБЫТИЯ
МОЖНО
НАЗВАТЬ НАЧАЛОМ
СУЩЕСТВОВАНИЯ
ВКЛ?**

MAGNI DVCATVS
LITHIVANIAE
LIVONIAE ET
MOSCOVIAE
DESCRPTIO.

A historical map of the Baltic region, showing the Baltic Sea, the Gulf of Finland, and the surrounding landmasses. The map is rendered in a light blue and grey color scheme. Overlaid on the map is large red text at the top and black text with red highlights below. The red text reads 'ПЕРВЫЕ СВЕДЕНИЯ О ЛИТВЕ'. The black text with red highlights reads '-1009 г. – первое упоминание о Литве в европейской хронике.' and '-1235 г. – упоминание Литвы Миндовга.'.

ПЕРВЫЕ СВЕДЕНИЯ О ЛИТВЕ

-1009 г. – первое упоминание
о Литве в европейской
хронике.

-1235 г. – упоминание Литвы
Миндовга.

ПРИЧИНЫ ВОЗВЫШЕНИЯ НОВОГРУДКА

• Стр. **12-13**

1. Высокий уровень хозяйственного развития (с/х, ремесло и торговля).

2. Удалённость от внешних врагов.

3. Долговременное сосуществование балтов и славян.



Наваградскі замак. Рэканструкцыя В. П. Сташчанюка. 1991 г.

КНЯЗЬЯ ВКЛ

- **1235-1263** – Миндовг
- **1264 – 1266** – Войшелк
- **1266 -1269** - Шварн
- **1270 – 1282** – Тройдень
- **1295 – 1316** – Витень
- **1316 – 1341** – Гедимин
- **1345-1377** – Ольгерд (и Кейстут)
- **1377 -1392** – Ягайло
- **1392 -1430** – Витовт
- **1440 – 1492** – Казимир Ягелончик
- **1492 -1506** – Александр Ягелончик
- **1506 -1548** – Сигизмунд I Старый
- **1548-1572** – Сигизмунд II Август

ЗАПОЛНИТЕ ТАБЛИЦУ «КНЯЗЬЯ ВКЛ И ИХ ПРАВЛЕНИЕ»

КНЯЗЬ	правление
Миндовг (1235-1263гг -.)	-Первый князь ВКЛ; - - -



❖ **1230-е гг.** - укрепление власти Миндовга в Литве и Жемайтии.

❖ Из-за недовольства других литовских князей бежал в Понёманье.

❖ **1240 г.** – новогрудское вече выбрало Миндовга князем.

❖ **1253 г.** – в Новогрудке Миндовг был коронован короной, присланной папой римским.

❖ **1263 г.** - в результате заговора он был убит.

1 КНЯЗЬ ВКЛ

**ПРАВЛЕНИЕ
МИНДОВГА
1235-1263**

БОРЬБА ЗА УКРЕПЛЕНИЕ КНЯЖЕСТВА



- Сын Миндовга.
- Подчинил себе
Новогрудок, Литву.
- Передал власть **Шварну**
и ушёл в монастырь.
- Был убит.

Войшелк
1264-1266

БОРЬБА ЗА УКРЕПЛЕНИЕ КНЯЖЕСТВ



Шварн

1268 – 1269

— борьба с
крестоносцами



Тройдень

1270 – 1282

- ❖ племянник Миндовга
- ❖ установил свою власть во всём *Верхнем Панеманьи.*
- ❖ успешно боролся с крестоносцами.

MAGNI DVCATVS
LITHVANIAE
LIVONIAE ET
MOSCOVIAE
DESCRPTIO.


БОРЬБА ЗА УКРЕПЛЕНИЕ КНЯЖЕСТВА



- достиг единства княжества.
- боролся с крестоносцами.
- расширял территорию ВКЛ.
- в 1293 г – принял герб «Погоня».
- + берестейская земля
- добивался единства в гос.

Витень

1295 – 1316





**КАКИЕ СОБЫТИЯ
МОЖНО
НАЗВАТЬ НАЧАЛОМ
СУЩЕСТВОВАНИЯ
ВКЛ?**

MAGNI DVCATVS
LITHIVANIAE
LIVONIAE ET
MOSCOVIAE
DESCRPTIO.

A detailed historical map of Eastern Europe, showing various regions and cities. The map is rendered in a light, textured style. In the bottom left corner, there is a decorative cartouche containing Latin text: "MAGNI DUCATVS LITHVANIAE LIVONIAE ET MOSCOVIAE DESCRIPTIO." The map includes labels for "Finlandia" in the north, "Wolog" in the northeast, and "Smolenska" in the east. The text "LAN D I A" is visible on the left side, and "S E V E R I A" is visible on the right side. The map shows a network of rivers and roads across the region.

ДОМАШНЕЕ ЗАДАНИЕ

§2

ТАБЛИЦА: «ПЕРВЫЕ КНЯЗЬЯ ВКЛ И ИХ ДОСТИЖЕНИЯ»

MAGNI DUCATVS
LITHVANIAE
LIVONIAE ET
MOSCOVIAE
DESCRIPTIO.