


«Найрозумніший» 1 клас



1 раунд



1. Из чего зроблено зображений предмет?

- а) метал;
- б) дерево;
- в) скло;
- г) пластмаса.



2. Обери тіло живої природи.

а)




в)



б)



г)



3. Обери рукотворне тіло

а)



в)



б)



г)



4. Дай назву групі предметів



а) молочні продукти

в) тварини

б) меблі

г) овочі



5. Знайди кущ?

а)



в)



б)



г)



6. Скільки меблів зображено на малюнку?



7. Знайди дику тварину

а)




в)



б)



г)



8. Обери дикорослу рослину.

а)



в)



б)



г)



9. Як у природі називається перетворення води на пару і навпаки?

а) злива



в) снігопад




б) кругообіг



г) водяна пара



2 раунд



1. Що не відноситься до гірських порід?

а) графіт



в) нафта



б) дерево



г) глина



2. За якою ознакою згрупували дані предмети?

а) формою

в) смаком

б) розміром

г) кольором



3. Обери зайвий предмет

а)



в)



б)



г)



4. Запиши числа в порядку послідовності

1)



3)



2)



4)




5. Обери предмет за аналогією

а)



б)



в)



г)



6. Запиши відповідь

$$17 - 5 + 3$$

а)



в)



б)



г)



7. Кінь темніший за корову, корова темніша за собаку. Хто найтемніший?

а)



б)



в)



8. Порівняй вираз і числа

$$15 + 4 \square 11$$

а) $>$

б) $<$

в) $=$




9. Обери слово за данною звуковою моделлю

[=● -| = ●]

а) вітряк



в) морква




б) борсук



г) буряк



3 раунд




1. Як називається книга, куди заносять назви вимираючих рослин і тварин?

а) Буквар

б) Книга з природознавства

в) Червона книга

г) Розфарбовка



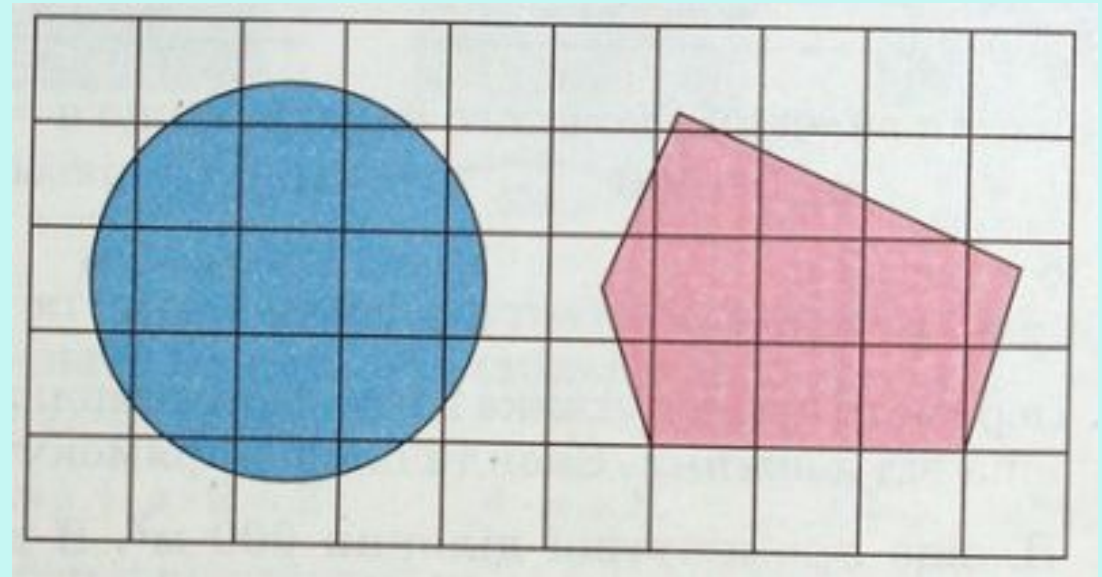
2. Який птах не вміє літати?

- а) орел;
- б) курка;
- в) лебідь;
- г) синиця.



3. Місце, яке займає предмет на певній площині – це ...

- а) площа
- б) довжина
- в) ширина
- г) об'єм



4. Певне правило, за яким розміщуються предмети – це ...

- а) класифікація
- б) порівняння
- в) закономірність
- г) відношення

△	○	△	○	
△	○	□	△	
↗	↘	⊗	⊗	
1	2	3	1	
□	□	□	□	
●	●●	●●●	●●●●	
1	2		4	5



5. «Дешифрувальник»

1	2	3
АБВГ	ГДЕЄ	ЖЗИІ
4	5	6
ЇЙКЛ	МНОП	РСТУ
7	8	9
ФХЦЧ	ШЩ	ЬЮЯ

Назва птаха: 6511



6. Обрати схему за даним реченням
Діти грають у футбол.

а) _____ .

б) | _____ .

в) | _____ .

г) | _____ .



7. Останній місяць літа

- а) липень
- б) вересень
- в) жовтень
- г) серпень



8. Яку назву має число червоного кольору?

$$9 - 4 = 5$$

- а) від'ємник
- б) різниця
- в) сума
- г) зменшуване



9. Яку назву має спортивна гра, в яку грають шайбою?

- а) футбол
- б) баскетбол
- в) хокей
- г) волейбол

