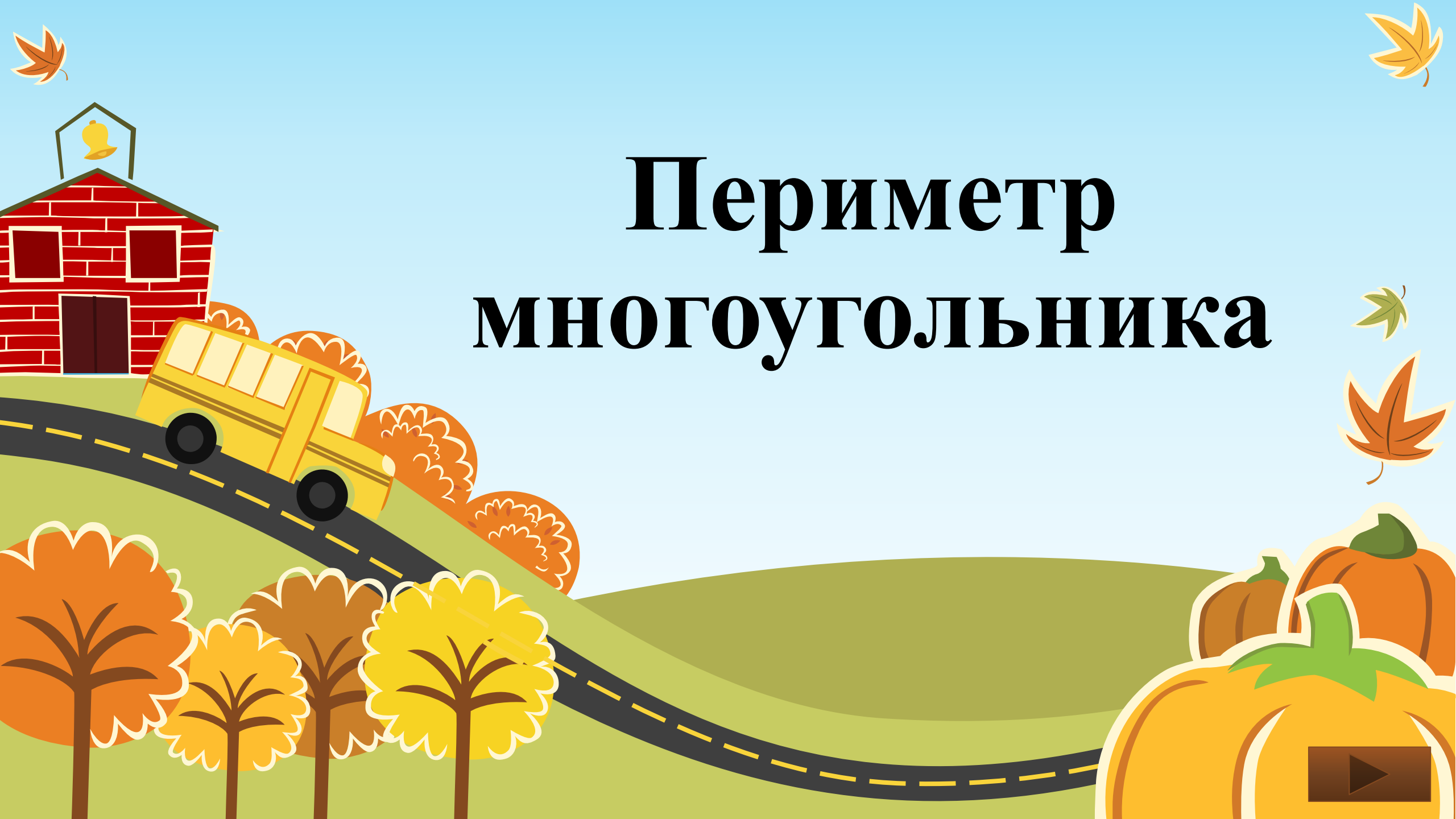
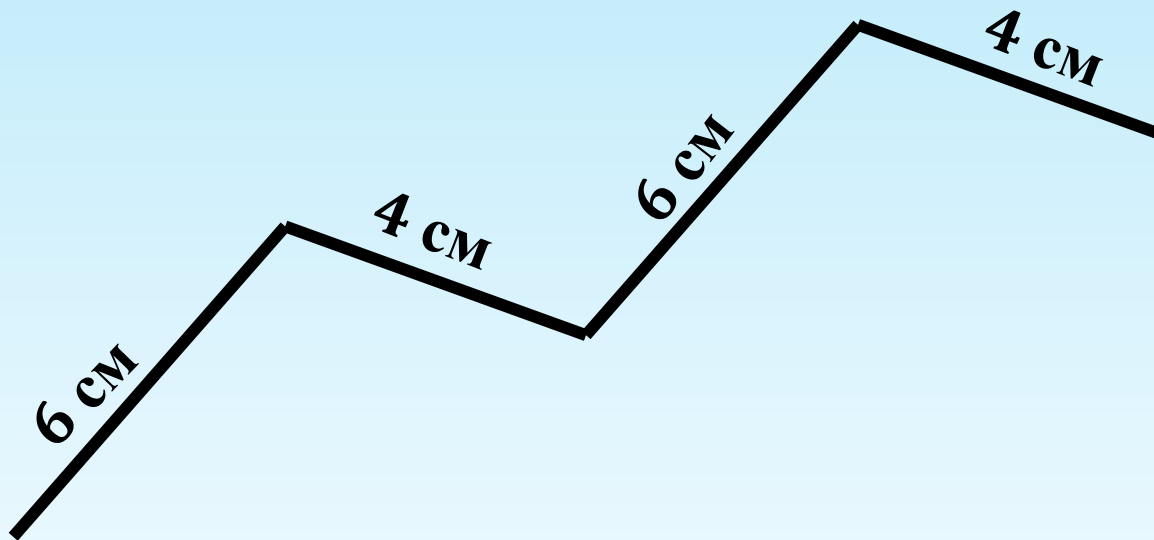


Периметр многоугольника



Найди длину ломаной.



А) $6+4=10$ см; Б) $6+4+6=16$ см; В) $6+4+6+4=20$ см;

Подсказка:

**Длина ломаной линии – это сумма длин
всех ее звеньев.**

Реши еще раз



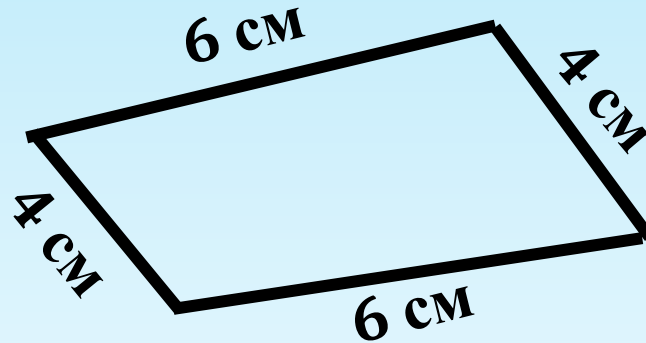
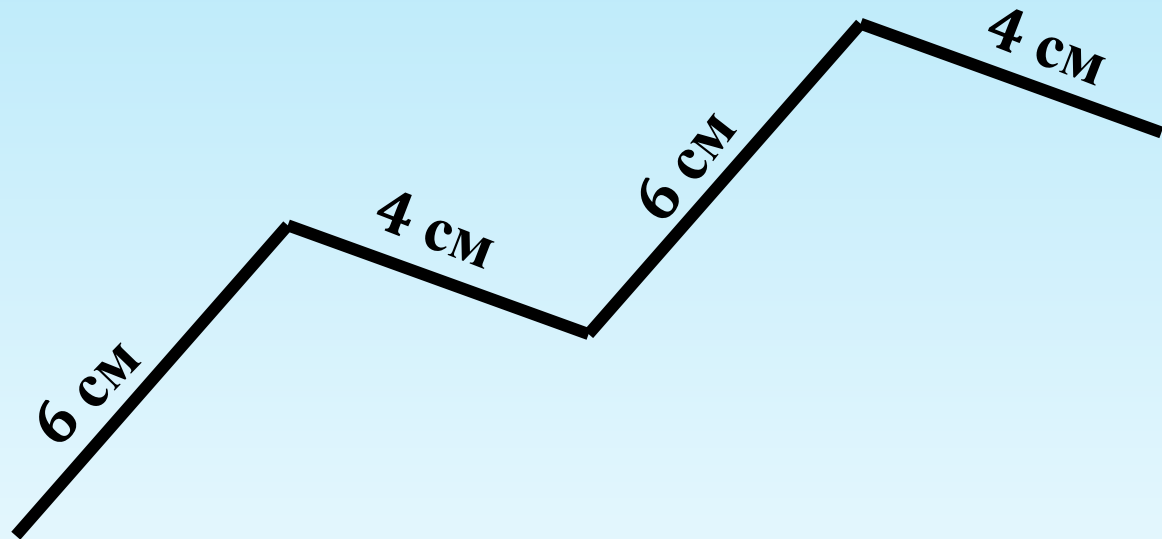
Я в выходные!



Бабуля



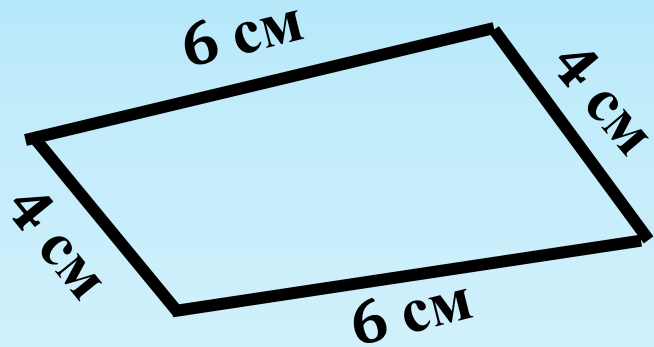
Из какой из сумм можно составить периметр четырехугольника?



A) $4+6+4+6=20$ см;

В) $6+4+6=16$ см;

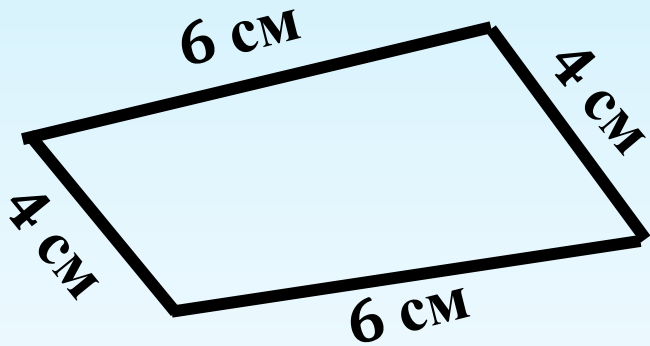
Б) $4+4+6=14$ см;



**$4+6+4+6=20$ см – периметр
четырёхугольника**

Периметр многоугольника -

это сумма длин всех его сторон



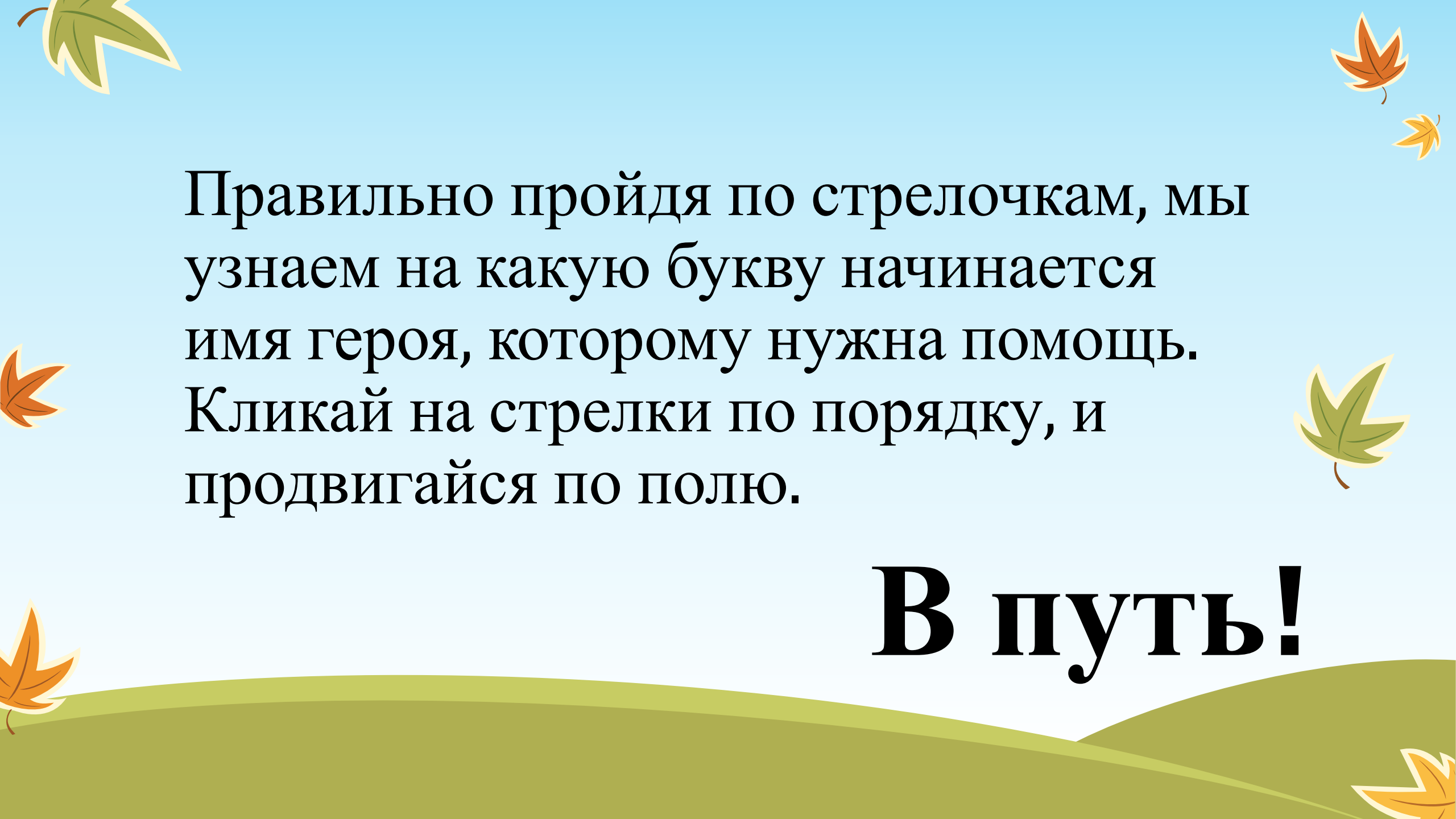
$$P = 4 + 6 + 4 + 6 = 20 \text{ см}$$

Я в выходные!



Бабуля





The page features several decorative autumn leaves scattered around the text. There is a green leaf in the top-left corner, a brown leaf in the top-right corner, a brown leaf on the left side, a green leaf on the right side, a brown leaf in the bottom-left corner, and a brown leaf in the bottom-right corner. The background is a light blue sky above a green rolling hill.

Правильно пройдя по стрелочкам, мы узнаем на какую букву начинается имя героя, которому нужна помощь. Кликай на стрелки по порядку, и продвигайся по полю.

В путь!

Начало:



				А
				Р
				С
				Ш
Старт				О




Ребята, помогите мне
добраться в моё болото.
Для этого выполните
несколько заданий....



Фиона в дорогу Шреку вышивала платочек. Только она никак не могла посчитать, сколько понадобится кружев.

Правильно ли нашла периметр Фиона?



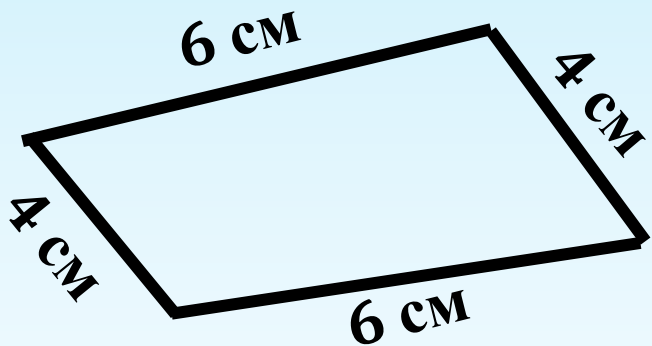
$$P=4+4+4=12 \text{ см ?}$$

Неправильно

Правильно

Периметр многоугольника -


это сумма длин всех его сторон



$$P = 4 + 6 + 4 + 6 = 20 \text{ см}$$

Понятно, решать дальше.

Помоги Фионе выбрать правильный
ответ



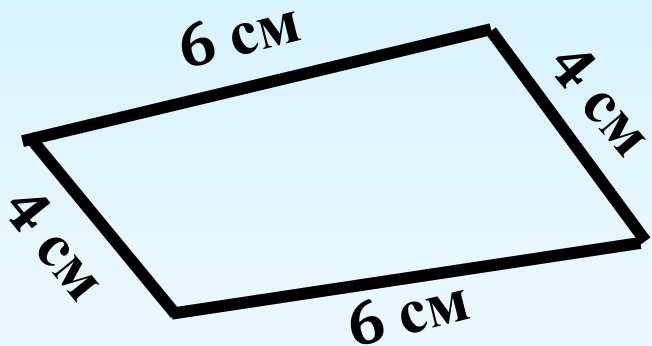
А) $P = 4 + 4 + 4 + 4 = 16$ см;

Б) $P = 4 + 4 + 4 = 12$ см;

В) $P = 4 + 4 = 8$ см

Периметр многоугольника -

это сумма длин всех его сторон



$$P = 4 + 6 + 4 + 6 = 20 \text{ см}$$

Понятно, решать дальше.



Спасибо за
помощь!



Болото Шрека равно периметру **квадрата в 12 см.**
После того, как у Шрека родились дети, он решил
увеличить каждую сторону болота **на 2 см.** Чему
равен периметр болота?

$P=16$ см;

$P=14$ см;

$P=20$ см;






Подумай еще раз!!!



Ты молодец!



Ослик решил заняться физкультурой и каждое утро делать пробежку по огороду Шрека. Длина огорода-10 см. ширина-8см. сколько см пробежит Ослик по краю огорода за один раз?



$$P = 36 \text{ см};$$

$$P = 30 \text{ см};$$

$$P = 26 \text{ см};$$



Браааво!



DREAMWORKS
SHREK
Shrek Forever After TM & © 2010 DreamWorks Animation LLC
All Rights Reserved.



Фióне нужно сшить своим детям новые шорты. Для этого ей необходимо от куска ткани со сторонами 4 см и 10см отрезать квадрат. Найди периметр полученного квадрата.

$$P = 4 + 4 + 10 + 10 = 28 \text{ см};$$

$$P = 4 + 4 = 8 \text{ см};$$

$$P = 4 + 4 + 4 + 4 = 16 \text{ см};$$






Подумай еще разок!

Восхитительно!



Выбери схему, которая подходит.
Дорожка от болота Шрека до дома
поворачивается два прямых раза:





Подумай еще разок!



Ура! Шрек добрался до своего болота, где его уже ждала семья и друзья.

