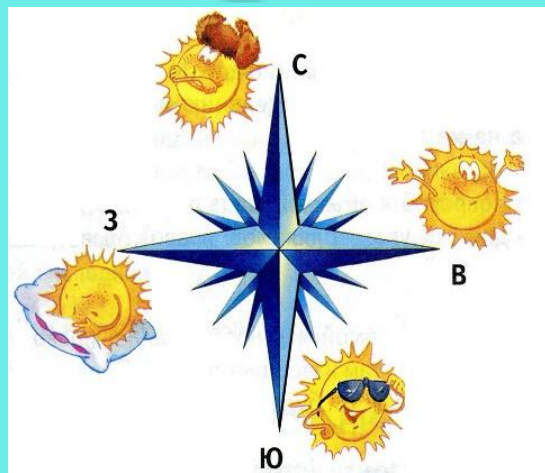


«Посмотри вокруг»



Мы с вами живём на планете Земля. ➡

Вспомните, что вы знаете о нашей
планете.





Рассмотрите рисунки и расскажите, как в древности люди представляли себе нашу Землю. Правы ли они были?




Работа по учебнику.



1. Откройте учебник на стр. 72-73.
2. Рассмотрите рисунки .
3. Прочитайте «Как выглядит Земля?»»





В том, что Земля имеет форму шара, люди убедились тогда, когда научились строить парусные корабли и стали плавать по морю.





Люди заметили одну интересную особенность: когда мореплаватели встречали другой корабль, то вначале далеко в море появлялась мачта корабля. Затем появлялись паруса. Лишь при его приближении становился виден весь корабль.



Прошло много времени, и люди поняли, что такое может быть только на Земле, которая по форме напоминает шар.



Отправляясь в путешествия, люди узнавали всё больше и больше нового о нашей планете. Земную поверхность, которую они видели вокруг себя, люди стали называть горизонтом.



Горизонт - земная поверхность,
которую мы видим вокруг себя.




Граница горизонта, где небо как бы
сходится с земной поверхностью,
называется линией горизонта.



Стороны горизонта.



Отправляясь в далёкие путешествия, люди ориентируются по сторонам горизонта. То направление, где Солнце поднимается выше всего и сильнее греет - **ЮГ**.




Ю



Противоположное направление, где
Солнце никогда не появляется, и
откуда дуют холодные ветры,
назвали **СЕВЕРОМ**.



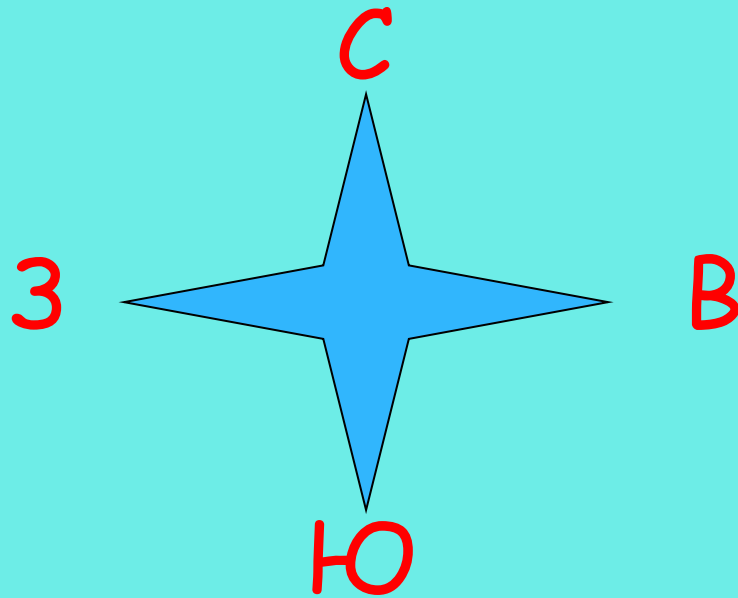
С



Ю



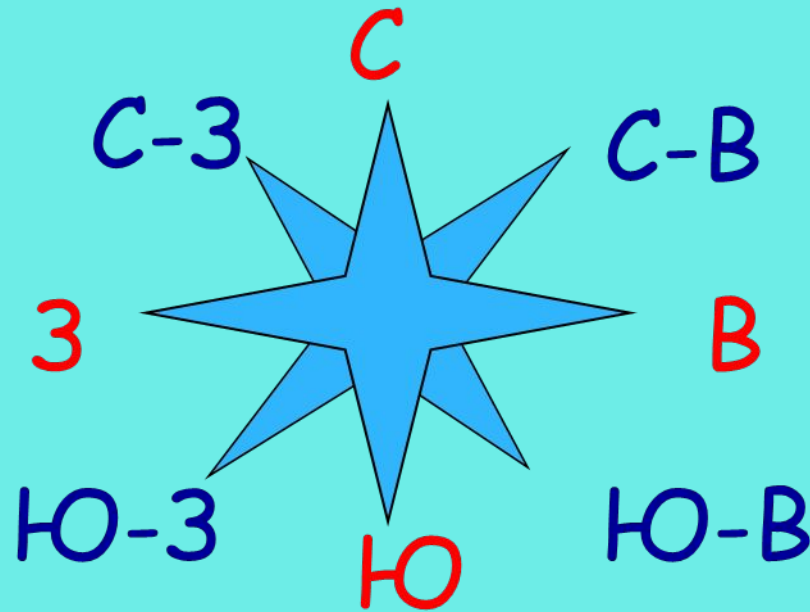
На **ВОСТОКЕ** Солнце всходит,
А на **ЗАПАДЕ** садится.



На схемах и картах север всегда
обозначают вверху, юг - внизу, запад
слева, восток - справа.



Кроме основных сторон горизонта есть ещё и промежуточные: **северо-восток, северо-запад, юго-восток, юго-запад.**




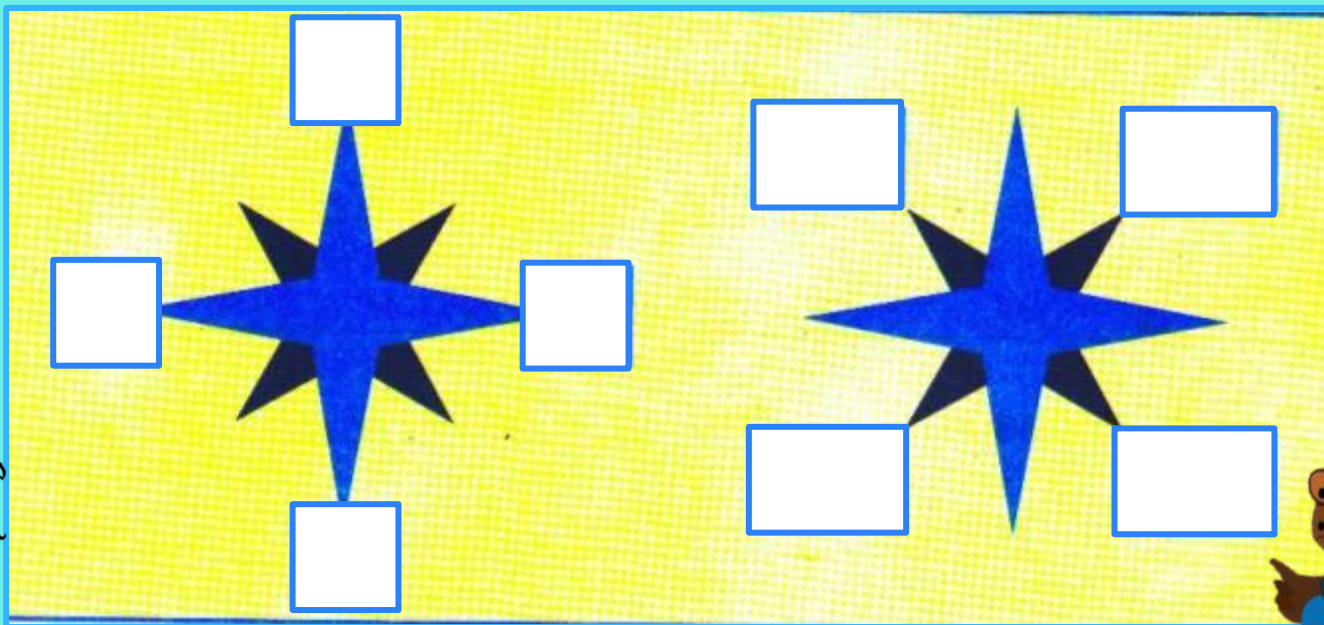
Записывают название сторон горизонта сокращённо. Основные – одной буквой, промежуточные – двумя.



Обозначьте стороны горизонта.



Клик мышкой
на квадратики



Работа по учебнику.



1. Откройте учебник на стр. 71.
2. Рассмотрите схемы .
3. Какие стороны горизонта на них не обозначены?



Клик на слова

Вставьте пропущенные слова.



Если встать лицом к северу, сзади будет... **юг**
слева-... **запад** справа-... **восток**

Если встать лицом к югу, сзади будет... **север**
слева-... **восток** справа-... **запад**

Если встать лицом к западу, сзади будет... **восток**
слева-... **юг** справа-... **север**



Если встать лицом к востоку, сзади
будет... **запад** слева-... **север**
справа-... **юг**





Спасибо за урок!

