


# Путешествие в мир задач на разностное сравнение





Юля нарисовала 20 медведей и волков. На сколько больше она нарисовала волков, если она нарисовала 5 медведей?

20

10

15

5

Симба съел 7 яблук  
и 3 груши. На  
сколько больше он  
съел яблук, чем  
груш?

5

10

4

7



Вдоль реки растет 70 дубов и лип. Из них 30 дубов, а остальные - липы. Насколько меньше растет дубом, чем лип?


100

10

40

30





Заяц нашёл 20 сыроежек и лисичек. На сколько больше он нашёл сыроежек, если он нашёл 4 лисички?

16

12

24

14

Лили нашла 8 грибов, а  
Лулу - 10 грибов. На  
сколько больше грибов  
нашла Лулу, чем Лили?


2

4

18

10





**Ошибка!**  
Прочитай  
внимательно задачу  
и попробуй решить  
еще раз!



МОЛОДЕЦ!

