

# Занятие 24

**Тренировка внимания.**

**Совершенствование мыслительных операций.**

**Развитие умения решать нестандартные задачи.**



## Разминка

Какое главное и древнейшее орудие шитья?

Что находится в середине капусты?

Лестница состоит из 15 ступенек. На какую ступеньку надо встать, чтобы быть на середине лестницы?

Какая удвоенная согласная есть в названии командной игры на льду?

Каков вопрос, таков ...

Бывает хоккей на льду, а бывает и на...?

Какую часть лица постоянно утирают платком при насморке?

Что растёт на ёлке?

На какое время года приходится самые длинные школьные каникулы?

При свете ты её отбрасываешь, а в темноте – нет. Что это?

*иголка*

*буква «у»*

*на 8*

*хоккей*

*ответ*

*траве*

*нос*


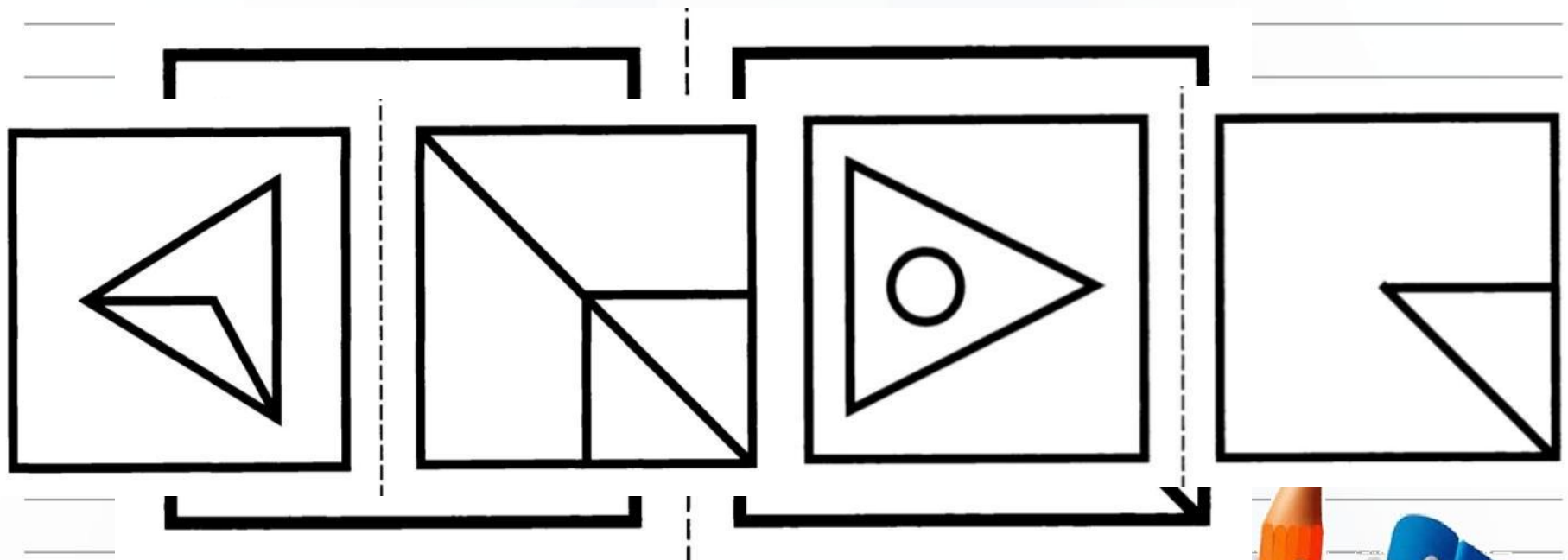
*шишки*

*на лето*



*тень*



# Тренируем внимание



# Найди ошибку

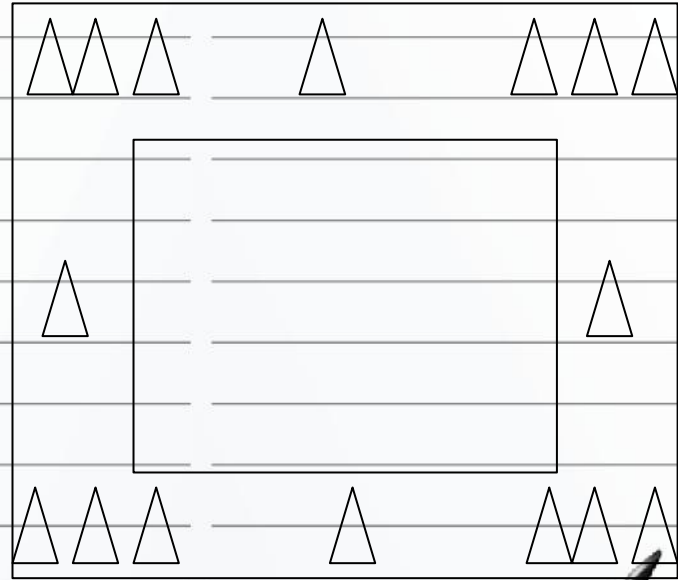
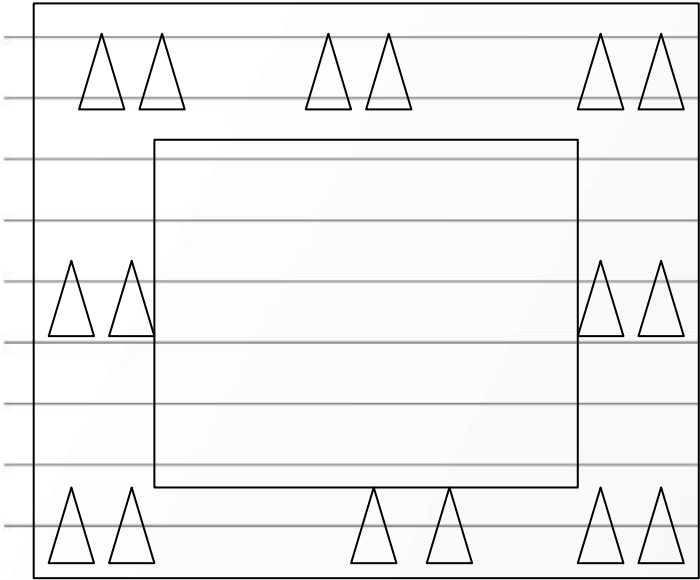


## Логически-поисковые задания




Брюква – родная сестричка капусты.  
Эта замечательная овощная культура,  
к сожалению, в настоящее время незаслуженно  
отодвинута многими огородниками на второй план.  
А ведь ещё лет 200-300 назад ее выращивали  
и использовали в пищу почти повсеместно,  
а также давали на корм скоту.





# Учись решать, стараясь рассуждать



$n = r$





36

г.

- 6

г.

+ 6

г.

- 4

г.

+ 4

г.

?

г.

?

г.

?

г.

одинак.

$$36 : 3 = 12$$

$$12 - 4 = 8 \text{ (г.)}$$

$$12 + 4 - 6 = 10 \text{ (г.)}$$

$$12 + 6 = 18$$

(г.)







?

г.

+2

г.

+22

г.

в 3 р. >

одинак.



?

г.

Подбираем числа  $> 22$ , которые делятся на 3.

Проверяем числа: 24, 27, 30, 33, 36 и т.д.

**Ответ: 8 и 10 галок**




## Итог

- Чем занимались на занятии?
- Какое задание понравилось?
- Какое задание было наиболее сложным?


Оцени свою работу  
(раскрась флажок)



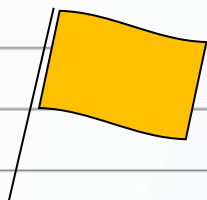
## ОЦЕНИ СВОЮ РАБОТУ!




- получилось всё отлично;



- получилось всё хорошо;



- только часть заданий выполнена так,  
как хотелось;



- не получилось так,  
как хотелось.

