


**Тренажёр  
«Учись решать  
задачи!»**



# Выбери задание!

Задачи на  
нахождение  
суммы

Задачи на  
увеличение  
или  
уменьшение







Прочитай  
инструкцию!

Задачи на  
нахождение  
разности

Задачи на  
сравнение

Отдохни!

# Внимательно прочитай инструкцию!

1. Прочитай внимательно задачу.
2. Рассмотрите варианты решения задачи, выбери нужный и щёлкни мышью ядом с решением.
3. Если решение верно, то анет огда щёлкни мышью на  решай следующее задание.
4. Если ты выбрал неправильное решение, то нет . Подумай ещё раз над решением!

*Желаю удачи!*



Винни – Пух за обедом съел 3 банки мёда, а за ужином ещё 2 банки мёда. Сколько всего баночек мёда съел Винни – Пух?

●  $3 + 2 = 5$  (б)

Ответ: 5 баночек.



●  $3 - 2 = 1$  (б)

Ответ: 1 баночку.



Красная шапочка несла в корзинке для бабушки 5 пирожков с яблоками и 3 пирожка с капустой. Сколько всего пирожков несла Красная шапочка?

●  $5 - 3 = 2$  (п.)

Ответ: 2 пирожка.

●  $5 + 3 = 8$  (п.)

Ответ: 8 пирожков.



Буратино сначала решил 4 примера, а потом ещё 3 примера. Сколько всего примеров решил Буратино?

●  $4 - 3 = 1$  (пр.)  
Ответ: 1 пример.

●  $4 + 3 = 7$  (пр.)  
Ответ: 7 примеров.



Доктор Айболит вылечил 6 зайчиков, а лисичек на 2 меньше. Сколько лисичек вылечил добрый доктор?

$6 - 2 = 4$  (л.)

Ответ: 4 лисички.



$6 + 2 = 8$  (л.)

Ответ: 8 лисичек.



Фокусник достал из шляпы 2 белых кролика, а серых на 3 больше. Сколько серых кроликов было в шляпе фокусника?



$$3 - 2 = 1 \text{ (кр.)}$$

Ответ: 1 кролик.



$$2 + 3 = 5 \text{ (кр.)}$$

Ответ: 5 кроликов.





Буратино знает 7 песенок, а Пьеро на 2 песенки больше. Сколько песен знает Пьеро?



$$7 - 2 = 5 \text{ (п.)}$$

Ответ: 5 песен.



$$7 + 2 = 9 \text{ (п.)}$$

Ответ: 9 песен.



Красная шапочка сорвала на полянке 6 колокольчиков, а ромашек на 3 меньше. Сколько ромашек сорвала Красная шапочка?



$$6 - 3 = 3 \text{ (р.)}$$

Ответ: 3 ромашки.



$$6 + 3 = 9 \text{ (р.)}$$

Ответ: 9 ромашек.



В коробке у Буратино лежало 6 конфет и 4 пряника.  
На сколько больше было конфет, чем пряников?



$$6 + 4 = 10 \text{ (к.)}$$

Ответ: 10 конфет.



$$6 - 4 = 2 \text{ (к.)}$$

Ответ: на 2 конфеты больше.



Винни – Пух надул 5 шариков, а Пятачок 1 шарик.  
На сколько меньше шариков надул Пятачок?



$$5 - 1 = 4 \text{ (ш.)}$$

**Ответ: на 4 шарика меньше.**



$$5 + 1 = 6 \text{ (ш.)}$$

**Ответ: 6 шариков.**



Доктор Айболит дал волку 5 ложек сиропа, а зайчику 2 ложки сиропа. На сколько ложек больше сиропа получил волк?



$$5 - 2 = 3 \text{ (л.)}$$

**Ответ: на 3 ложки больше.**



$$5 + 2 = 7 \text{ (л.)}$$

**Ответ: 7 ложек.**



Буратино съел 6 конфет, а Пьеро 3 конфеты.  
На сколько конфет меньше съел Пьеро?



$$6 - 3 = 3 \text{ (к.)}$$

Ответ: на 3 конфеты меньше.



$$6 + 3 = 9 \text{ (к.)}$$

Ответ: 9 конфет.



На полянке росло 7 грибов. Ёжик положил в корзинку 2 грибка. Сколько грибов осталось на полянке?

●  $7 - 2 = 5$  (гр.)  
Ответ: 5 грибов.

●  $7 + 2 = 9$  (гр.)  
Ответ: 9 грибов.



В воздухе кружили 7 бабочек. Потом 3 бабочки опустились на траву. Сколько бабочек осталось летать?



$7 + 3 = 10$  (б.)

**Ответ: 10 бабочек.**

$7 - 3 = 4$  (б.)

**Ответ: 4 бабочки.**






В шкафу было 8 чашек. Мальвина поставила на стол 2 чашки. Сколько чашек осталось в шкафу?

$8 - 2 = 6$  (ч.)

Ответ: 6 чашек.

$8 + 2 = 10$  (ч.)

Ответ: 10 чашек.



У Вини – Пуха было 6 горшочков с мёдом. Он решил подарить своему другу ослику Иа горшочек с мёдом. Сколько горшочков с мёдом осталось у Пуха?



$$6 + 1 = 7 \text{ (г.)}$$





**Ответ: 7 горшочков.**



$$6 - 1 = 5 \text{ (г.)}$$

**Ответ: 5 горшочков.**





# Ребята, берегите зрение.



## ИСТОЧНИКИ:

[http://download-foto.ru/ramki-foto/5808-ramka\\_shkolnaja.html](http://download-foto.ru/ramki-foto/5808-ramka_shkolnaja.html)

<http://forum.materinstvo.ru/lofiversion/index.php/t73522-450.html>

<http://freelance.ru/users/izonavt/?work=348244>

<http://nifiga-sebe.ru/index.php?newsid=941>

<http://wap.mms.mts.ru/contents/1572360?ct=photos>

<http://www.labirint.ru/screenshot/goods/37265/16/>

<http://psychology.net.ru/talk/viewtopic.php?p=626981&>

<http://rdt45.narod.ru/variousthings/store/buratino.htm>

<http://blogs.mail.ru/mail/irina-669/tag/картинки>

<http://rdt45.narod.ru/variousthings/store/buratino.htm>

<http://zreni.ru/527-elektronnye-fizminutki-dlya-glaz-chast-3-galkina-inna-anatolevna.html>

*ТРЕНАЖЁР СОСТАВИЛИ  
УЧИТЕЛЯ НАЧАЛЬНЫХ КЛАССОВ*

*МБОУ ООШ № 16*

*БУГАНОВА И.В.*

*ТОЛЧИНА Е.А.*