




# УЧИМСЯ РЕШАТЬ СОСТАВНЫЕ ЗАДАЧИ

Тренажёр по математике для 2 класса

Буганова Ирина Викторовна  
учитель начальных классов  
МБОУ ООШ № 16 г. Мурманска



# Выбери задание!



Уровень  
1

Отдохни!  
и!



Уровень  
2

Уровень  
3




## ИНСТРУКЦИЯ!



1. Внимательно прочитай задачу!
2. Проанализируй задачу. (Что дано? Что надо узнать? Можно ли сразу ответить?)
3. Составь план решения задачи.
4. Найди в левом нижнем углу маркер красного цвета, кликни на него мышкой. Выбери карандаш или фломастер.
5. Карандашом запиши решение задачи в поле «Решение».
6. Для проверки снова иди в левый нижний угол, кликни на маркер красного цвета, выбери стрелку. Подведи стрелку на надпись «Проверка», когда появится рука, кликни мышкой. Появится проверка 
7. Чтобы перейти к следующей задаче кликни на стрелку  в правом нижнем углу.
8. После завершения работы, при закрытии тренажёра, появится окошко «Сохранить рукописные записи?», нажми на строку «Удалить».

**Желаю успехов!**

Для гербария Аня собрала 6 кленовых листиков, а дубовых на 2 листа больше. Сколько всего листиков собрала Аня для гербария?



- ?, на 2 >



*Решение*

*Проверк*

1)  $6 + 2 = 8$  (л.)

2)  $6 + 8 = 14$  (л.)

Ответ: всего 14 листиков.



Для детского сада купили 7 легковых машинок, а самосвалов на 3 меньше. Сколько всего машин купили для детского сада?



- 7 м.



- ?, на 3 м. <

? м.

*Решени*

*е*

*Проверк*

1)  $7 - 3 = 4$  (м.)

2)  $7 + 4 = 11$  (м.)

Ответ: всего 11 машин.





В соревнованиях по баскетболу команда «Орлята» забила 20 мячей, а команда «Соколы» на 5 мячей больше. Сколько всего мячей было забито в этой игре?

*Решение*

*Проверк*

*а*

1)  $20 + 5 = 25$  (м.)

2)  $20 + 25 = 45$  (м.)

Ответ: всего 45 мячей.



Маша и Витя читали книжку.  
Витя прочитал 14 страниц, а  
Маша на 6 страниц больше.  
Сколько всего страниц  
прочитали ребята вместе?



*Решение*

A large empty rounded rectangular box with a purple border, intended for writing the solution to the problem.

*Проверк*

1)  $14 + 6^a = 20$  (стр.)

2)  $14 + 20 = 34$  (стр.)

Ответ: всего 34 страницы.





Запиши решение задачи в поле «Решение» по действиям или выражением.  
Проверь в поле «Проверка».



В школьную столовую привезли 25 кг яблок и 10 кг груш. На завтрак ученикам раздали 20 кг фруктов. Сколько килограммов фруктов осталось?

*Решение*

*Проверка*

$$1) 25 + 10 = 35 \text{ (кг)}$$

$$2) 35 - 20 = 15 \text{ (кг)}$$

Ответ: осталось 15 кг.

$$(25 + 10) - 20 = 15 \text{ (кг)}$$







В школьном парке росло 20 саженцев деревьев. Ребята посадили ещё 12 саженцев берёзы и столько же саженцев елей. Сколько всего саженцев будет расти в парке?

### Решение

### Проверка

1)  $12 + 12 = 24$  (с.) – ещё посадили.

2)  $20 + 24 = 44$  (с.)

Ответ: будет расти 44 саженца.

$20 + (12 + 12) = 44$  (с.)





В конструкторе 55 деталей. Для строительства городка ребята взяли сначала 25 деталей, а потом ещё 20 деталей. Сколько деталей осталось в конструкторе?

*Решение*

Blank rounded rectangular box for the solution.



*Проверка*

1)  $25 + 20 = 45$  (д.) – всего взяли.

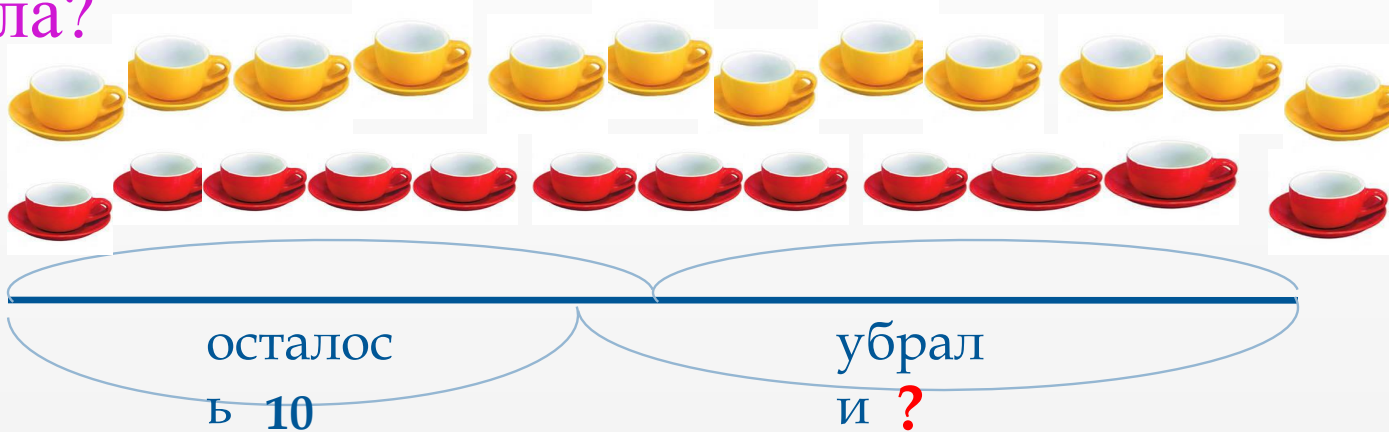
2)  $55 - 45 = 10$  (д.)

**Ответ: осталось 10 деталей.**

$55 - (25 + 20) = 10$  (д.)



На столе стояло 12 красных чашек и столько же жёлтых чашек. Когда убрали несколько чашек, осталось 10 чашек. Сколько чашек убрали со стола?



## Решение

## Проверка

1)  $12 + 12 = 24$  (ч.) – было всего

2)  $24 - 10 = 14$  (ч.)

Ответ: убрали 14 чашек.

$12 + 12 - 10 = 14$  (ч.)



Девочки прыгали через скакалку.  
Таня прыгнула 40 раз, Лена на 8 раз  
больше, чем Таня, а Вика на 2 раза  
меньше, чем Лена. Сколько раз  
прыгнула через скакалку Вика?



## *Решение*

## *Проверка*

1)  $40 + 8 = 48$  (р.) – Лена.

2)  $48 - 2 = 46$  (р.)

Ответ: Вика прыгнула 46  
раз.



В зооуголке было 15 волнистых попугайчиков, горлиц на 3 больше, чем попугайчиков, а канареек на 9 меньше, чем попугайчиков. Сколько канареек было в зооуголке?



*Решение*

*Проверка*

1)  $15 + 3 = 18$  (пт.) –  
горлицы.

2)  $15 - 9 = 6$  (пт.)

Ответ: было 6 канареек.



СОСТАВЬ ПО КРАТКОЙ ЗАПИСИ ЗАДАЧУ И РЕШИ ЕЁ



- 12 м.



- ?, на 5 м. меньше, чем



- ?, на 8 м. больше, чем



*Решение*

Blank rounded rectangular box for writing the solution.

*Проверка*

1)  $12 - 5 = 7$  (м.) -  
футбольные.

2)  $7 + 8 = 15$  (м.)

Ответ: 15 резиновых мячей.

$(12 - 5) + 8 = 15$  (м.)



СОСТАВЬ ПО КРАТКОЙ ЗАПИСИ ЗАДАЧУ И РЕШИ ЕЁ



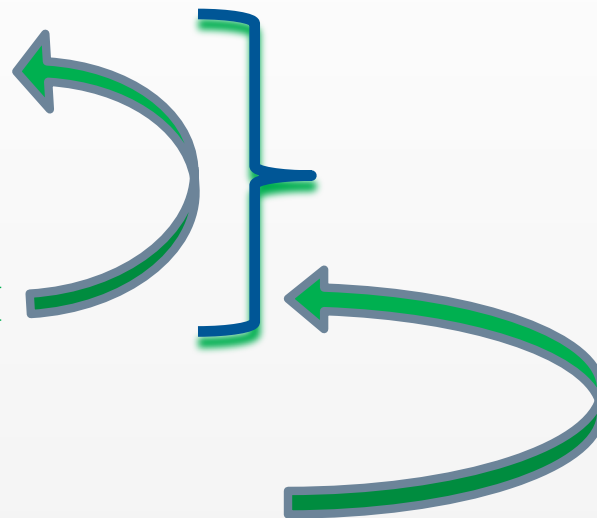
- 25 ш.



- ?, на 5 ш. <, чем



- ?, столько же



*Решение*

Blank box for the solution.

*Проверка*

1)  $25 - 5 = 20$  (ш.) - синих.


2)  $25 + 20 = 45$  (ш.)

Ответ: 45 красных шариков.

$25 + (25 - 5) = 45$  (ш.)







## ИСТОЧНИКИ:

[http://www.koipkro.kostroma.ru/Kostroma\\_EDU/Kos\\_sch\\_36/DocLib/Forms/DispForm.aspx?ID=11](http://www.koipkro.kostroma.ru/Kostroma_EDU/Kos_sch_36/DocLib/Forms/DispForm.aspx?ID=11) - мальчик за партой

<http://77tat.livejournal.com/2168361.html> - девочка с тетрадкой

<http://www.liveinternet.ru/users/arissas9070/post182564101/> -  
учительница с указкой

<http://forum.materinstvo.ru/lofiversion/index.php/t73522-450.html> -  
карандаш

<http://art3d.org.ua/sozdaem-kist/> - КЛЕНОВЫЙ

ЛИСТ

<http://www.forest.ru/rus/basics/glossary/articles/dyb.html> - дубовый

ЛИСТ

<http://www.eka-mama.ru/forum/part151/topic224218/> - машинка

САМОСВАЛ

<http://raskrashkirus.ru/risunki-mashinok.html> - красная машинка

<http://tr.fotolia.com/p/200912219?offset=100> - баскетболисты

<http://rus.err.ee/estonia/b5b14a8e-c0bc-41d5-8bd3-a160e616db28> -  
дети за партой



[http://www.fruitnews.ru/news/index.php?ELEMENT\\_ID=20608](http://www.fruitnews.ru/news/index.php?ELEMENT_ID=20608) – яблоки и груши

<http://ru.coolclips.com/media/?D=vc005539> – мальчик сажает ёлочку

<http://nifiga-sebe.ru/index.php?newsid=3024> – девочка и

конструктор

<http://www.sekretumam.com/igraem-c-detmi/detskie-kubiki.html> -

городок

<http://www.priority-group.com.ua/krasnaya-chashka-s-blyudtsem> -

красная чашка

<http://tiotosa.futbolki.nflfan.org/futbolka-moscow/kjunbg-personage-odezhda.html> -

жёлтая чашка

<http://www.liveinternet.ru/users/lagrimosa/post176851959/> -

девочки прыгают через скакалку

[http://dumais.us/newtown/blog/wp-content/uploads/2011/01/soccer-ball.](http://dumais.us/newtown/blog/wp-content/uploads/2011/01/soccer-ball.jpg)

jpg - футбольный мяч

<http://detirisuyut.ru/detskiy-myachik-foto.html> - резиновый мяч

<http://www.artactive.polkovnik-men.ru/unit.php?gid=42> – баскетбольный

мяч

<http://stopaus.ucoz.ru/news/2009-07-06-328> - попугайчики

<http://www.photosight.ru/photo/alone/2434360/> - горлица



[http://toteach.com.ua/start-zhivotnyy\\_mirAnimalworld-514-modeA.html](http://toteach.com.ua/start-zhivotnyy_mirAnimalworld-514-modeA.html) - канарейка

<http://blog.i.ua/user/421611/854165/> - жёлтый шарик

[http://www.dostavka.ru/Everts-Upakovka-100-sinikh-sharikov-id\\_6625901](http://www.dostavka.ru/Everts-Upakovka-100-sinikh-sharikov-id_6625901) - синий шарик

<http://fotoramochki.com/clipart-prazdniki.html> - красный шарик

[http://luzan.ucoz.ru/load/animacionnye\\_kartinki\\_na\\_shkolnuju\\_tematiku/29-9-2\\_](http://luzan.ucoz.ru/load/animacionnye_kartinki_na_shkolnuju_tematiku/29-9-2_) - цветы и бабочки

<http://miranimashek.com/photo/23-0-14636> - девочка и облачко

