







*В каждом задании
найди правильный
ответ и нажми на
него!*



В каком числе
4 десятка и 7 единиц?



Умница

Я
расстроен

74

17

47



Какое число меньше, чем 70,
на 1?




Так
держаться

Подумай!

59

71


69



Найди сумму чисел 8 и
50.

Молодец!


Неверно.



42

58

55



Найди разность чисел 94
и 4.

Верно.


...Т
быть.



98

90

54



**Найди число, в котором 5
десятков,
а единиц на 2 меньше.**



Порадова


Эх,...



53

52


35



Какое число увеличили на 7,
если получили 30?

Внимательные


Умница!



29

23

37



Какое число уменьшили на 9,
если получили 21?


Ты победитель!

не спеши

30

12

11



Оцени свою работу:

Быстро и без ошибок.

Медленно, но без ошибок.

**Допустил 1
ошибку.**


**Допустил более 2
ошибок.**


Твоя отметка

5.

Твоя отметка

**4 Повтори состав
чисел. И попробуй
еще раз.**





В работе использованы:

Анимированные изображения:

<http://lisyonok.ucoz.ru/index/0-97>

Программное обеспечение:

для создания презентации - Microsoft Office PowerPoint 2007;

Музыка и фигуры из коллекции Microsoft Office PowerPoint 2007.

Инструкция по работе с презентацией.

Пояснительная записка.