

# «Шахматная школа»

## Слон и ладья



Автор презентации: Плотникова О.В., учитель начальных классов  
МБОУ СОШ №3, г.Донецк, Ростовская область



# Загадка

Обитает не в саванне,  
И не так огромен он,  
Но такое же название  
У фигуры этой -...

**СЛОН**





# Загадка

Мы могли на ней бы плыть  
С русским князем по воде,  
Но позволено ходить  
И по клеточкам...

**ладье**



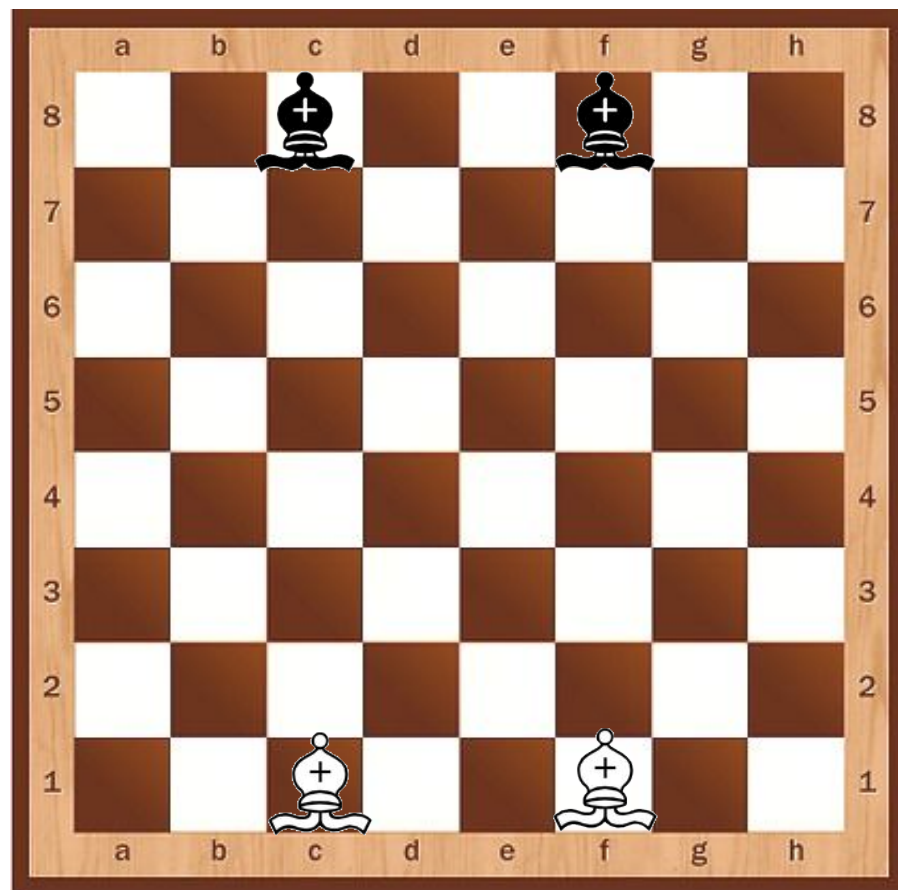



# Начальное положение

Слон – легкая шахматная фигура. В древнерусских шахматах слон называется также «офицер».

В начале партии у каждого из игроков в распоряжении 2 слона.

**Назовите исходную позицию слонов.**

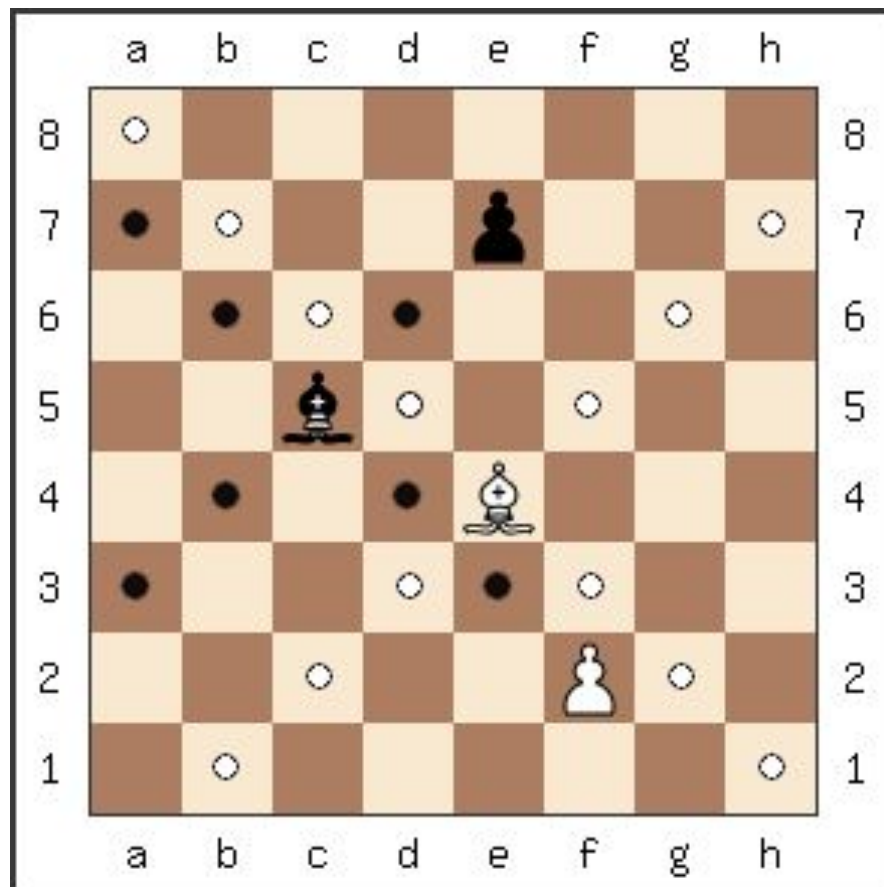




# Как ходит слон

Офицер **ходит по диагонали на любое количество клеток**, при условии, что путь слона не прегражден. Слон не может «перепрыгивать» через фигуры, как чужие, так и свои.


*Если слон на белом поле встал вначале (не забудь!), он другой не хочет доли — знает только белый путь. А когда на поле чёрном слон стоит, вступая в бой, ходит, правилам покорный, чёрной тропкой слон такой. До конца игры слоны цвету одному верны. Лишь одноцветные поля Слона в походе привлекали. Он на чужого короля Нацелен по диагонали.*





# Как бьет слон

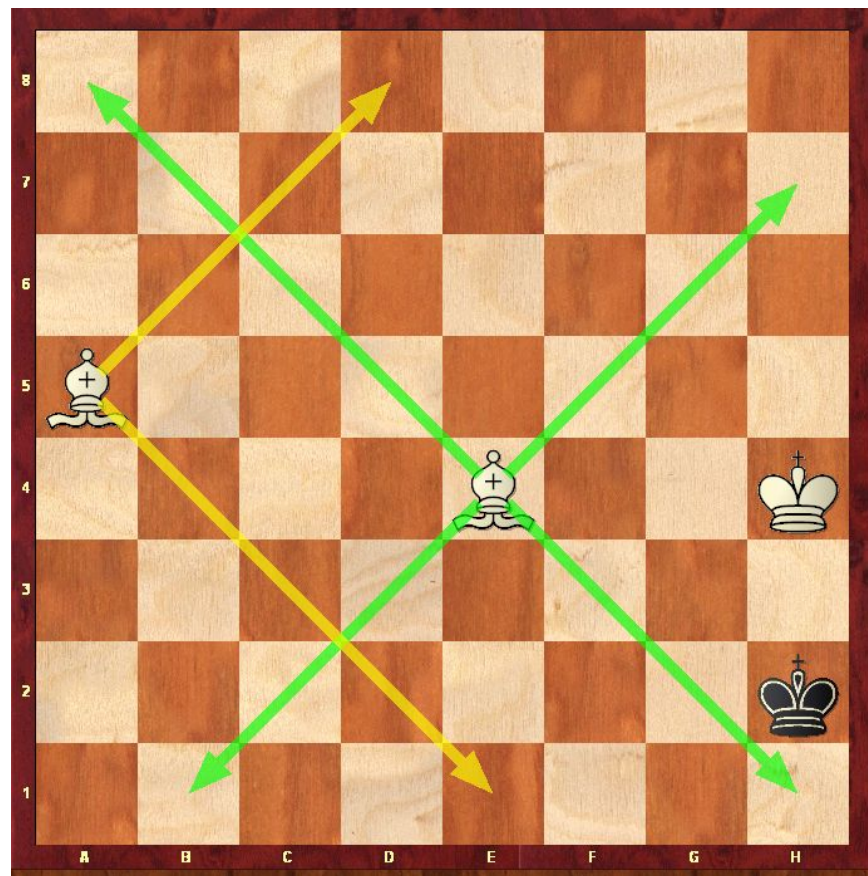
Слон бьёт также как и ходит: по диагонали, становясь на место той фигуры, которую взял.





# Ценность слона


Особенность слонов состоит в том, что они способны ходить на протяжении всей партии только по белым или черным клеткам. Одним слоном мат поставить невозможно, но парой слонов мат поставить можно.





# Слон в игре

## Игра «Слон против слона»



Начальное положение фигур

Если сейчас ход белого слона,  
может ли он атаковать черного?  
На какое поле он пойдет?

Может ли черный слон  
избежать гибели? Подскажите  
ход.


Будет ли угроза для черного  
слона, если он пойдет на поле  
d 6? Объясни.

Как называются эти слоны?





# Ладья



Видимо, ладья упряма,  
если ходит только прямо  
не петляет — прыг да скок  
не шагнёт наискосок.  
Так от края и до края  
может двигаться она.  
Эта башня боевая  
неуклюжа, но сильна.  
Шаг тяжёлый у ладьи,  
в бой её скорей веди

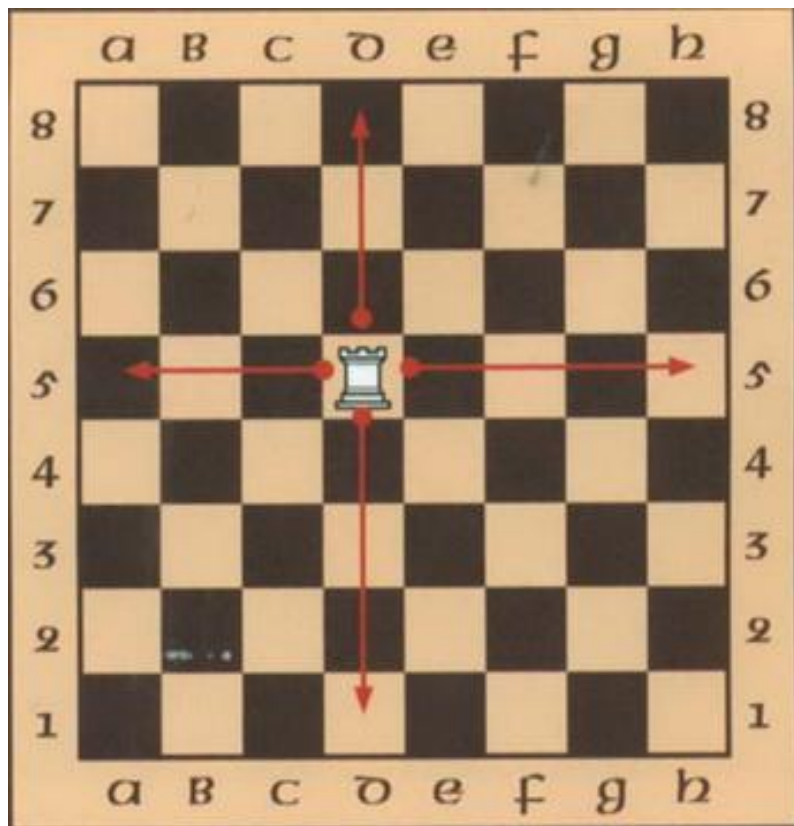


Что вы узнали о ладье из этого стихотворения?

Её также называют турой, потому что она похожа на башню. Ладьи стоят по краям доски. Обычно дело до них доходит только в середине партии, когда никто не мешает им как следует развернуться.



# Ладья



Ладьи очень храбрые, но не слишком хитрые. Они ходят только по линиям. **Помнишь, что такое горизонтали и вертикали?** Так вот, где бы ни стояла ладья, она может перейти на любую клетку своей линии. Ладья может ходить только по вертикальной или горизонтальной прямой, зато на любое количество клеток. Но если она упрётся в край доски или другую фигуру своего цвета, ей придётся остановиться. Ладья берёт любую фигуру, стоящую на одной с ней линии.



# Ладья



Ладья — единственная фигура, которая может участвовать в особом ходе, который называется рокировка.

В рокировке участвует только ладья и король при условии, если эти фигуры ни разу не ходили и между ними нет других фигур.

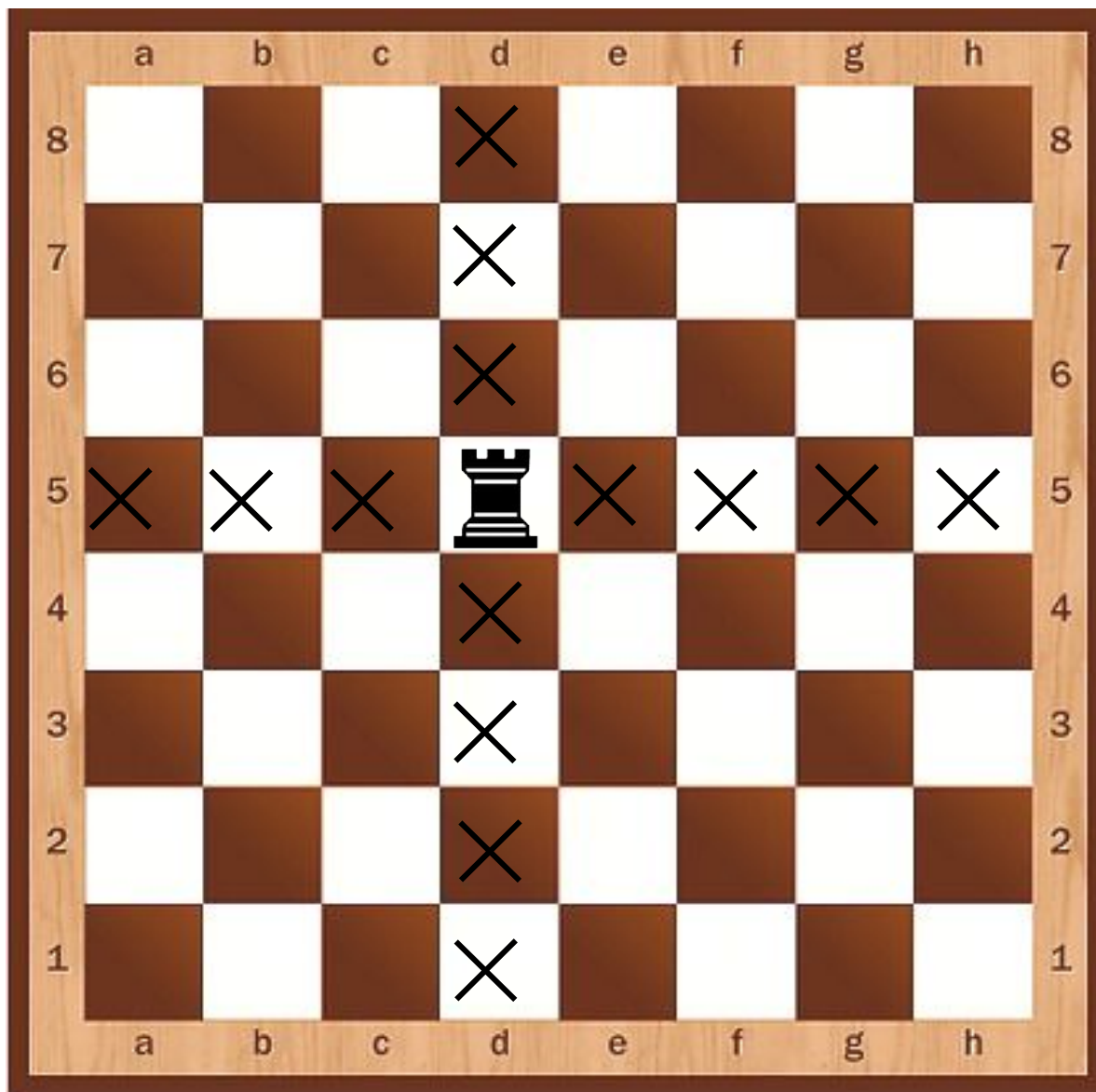


# Как ходит ладья





# Как ходит ладья





# Шахматная задача

Белая ладья должна попасть на другой конец длинной диагонали, но ей мешают часовые — чёрные ладьи. И пешки тоже, как назло, стоят на пути: им не давали приказа двигаться. Какие ходы нужно сделать белой ладье, чтобы добраться до цели?





# Шахматный тест

На каком поле может находиться чёрная ладья в начале игры?

I) a1      III) c8

II) h8      IV) d5

	a	b	c	d	e	f	g	h
8								
7								
6								
5								
4								
3								
2								
1								
	a	b	c	d	e	f	g	h



# Шахматный тест







# Шахматный тест

Ладья стоит на поле f4.  
На какое поле за один ход она не может перебраться?

I) f5                      III) h4

II) a4                      IV) c5

	a	b	c	d	e	f	g	h	
8									8
7									7
6									6
5									5
4									4
3									3
2									2
1									1
	a	b	c	d	e	f	g	h	



# Шахматный тест

8

Какие фигуры находятся под боем ладьи?

7

6

5

4

3

2

1

a b c d e f g h

a b c d e f g h

I) слон и ферзь

II) пешка и конь

III) пешка и слон

IV) конь и ферзь

# Подытожим!

**Слон и ладья – разные фигуры,  
но есть ли между ними что-то  
общее?**

**Вспомните все, что вы  
знаете об этих фигурах!**





# Использованные ресурсы:

## Литература:

- Книга "Шахматы для детей, родителей и учителей", авторы: Костров Всеволод и Давлетов Джалиль, г.Санкт-Петербург
- Сухин И. Шахматная сказка // Сухин И. Приключения в Шахматной стране. – М.: Педагогика, 1991.
- Сухин И. Шахматы, первый год, или Учусь и учу: Пособие для учителя – Обнинск: Духовное возрождение, 1999.

## Интернет-ресурсы:

- Сайт поклонников игры в шахматы [http://chess-fan.at.ua/blog/lesson\\_2\\_3\\_slon/2011-10-21-7](http://chess-fan.at.ua/blog/lesson_2_3_slon/2011-10-21-7)
- Шахматная доска <http://4149661.ru/images/doshkolnoe/ds1002.jpg>
- Ходы слона [http://2ls.ru/uploads/posts/2013-02/1360443357\\_kak-hodit-slon.png](http://2ls.ru/uploads/posts/2013-02/1360443357_kak-hodit-slon.png)
- Слон <http://www.chessgu.ru/wp-content/uploads/2011/09/slonn.gif>