


Развивающие игры

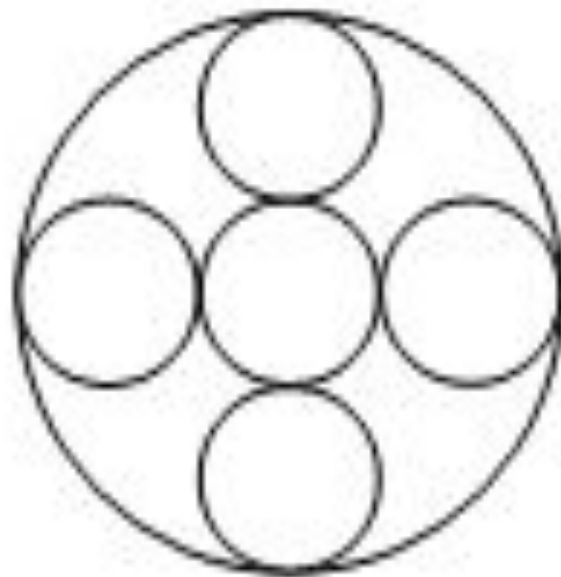
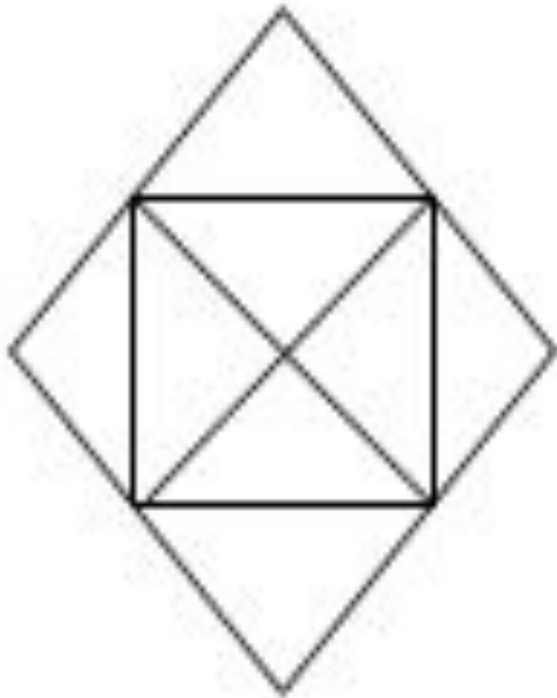


МП

Найдите две одинаковые фигуры.



Чего больше на рисунке:
треугольников или кружков?





На ковриках дырки. Помогите
подобрать заплатки.



а



б



в



г

Рассмотрите рисунки. Сколько отличий вы нашли?



Запишите первые буквы слов





Найдите две одинаковые по смыслу пословицы.

- А) Один за всех, все за одного.
- Б) Без труда не выловишь и рыбку из пруда.
- В) Одна пчела много меду не натаскает.



Можно ли принести воду в решете?

- 1) можно;
- 2) нельзя;
- 3) можно, если ты волшебник.



Назовите крупы, изображенные на картинке.

ри

с



геркул

ес

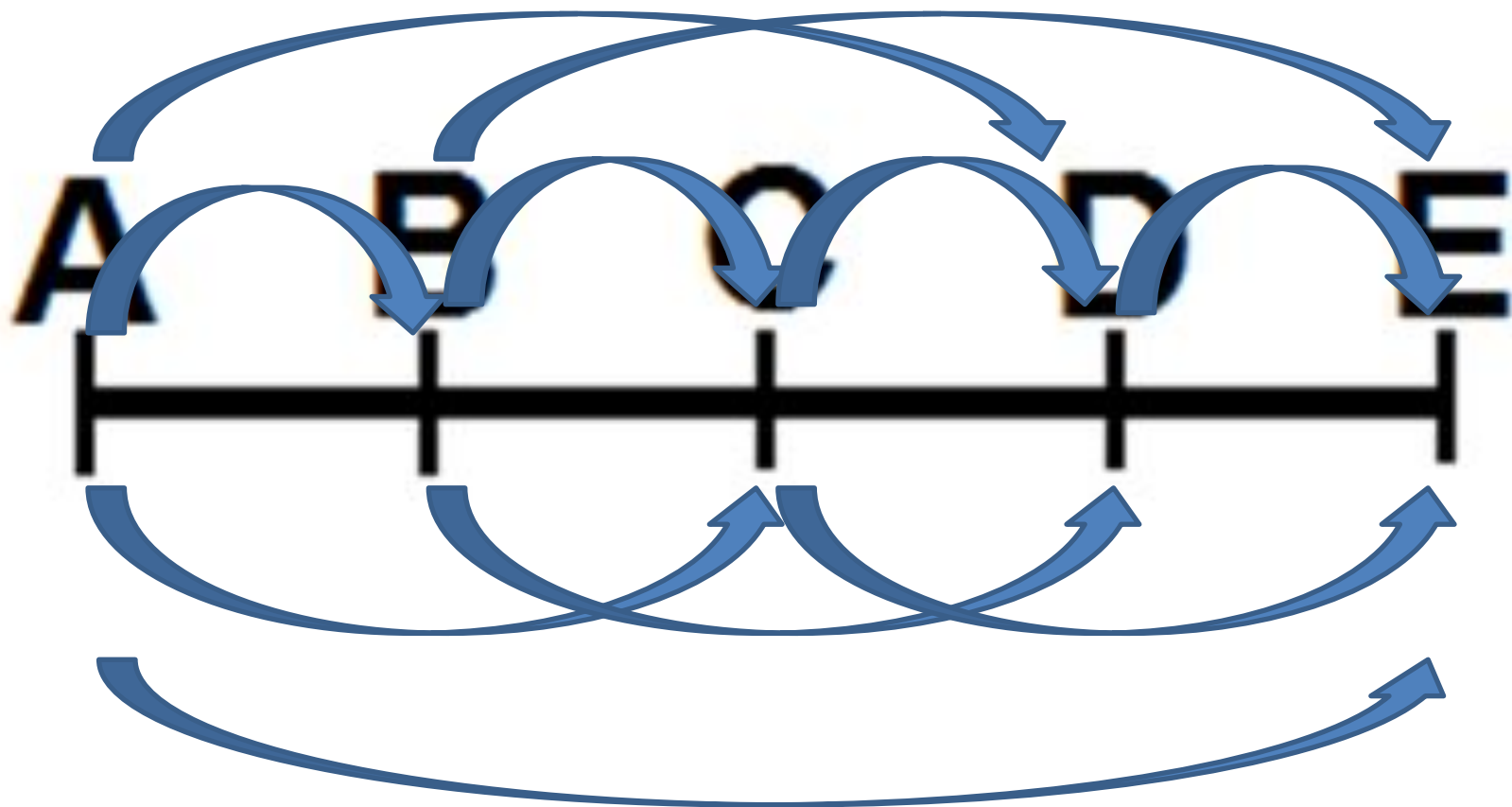
гречк



Соотнесите время суток и прием
пищи.

1	утро	ужин	А
2	день	завтрак	Б
3	вечер	обед	В

Сколько отрезков на чертеже?

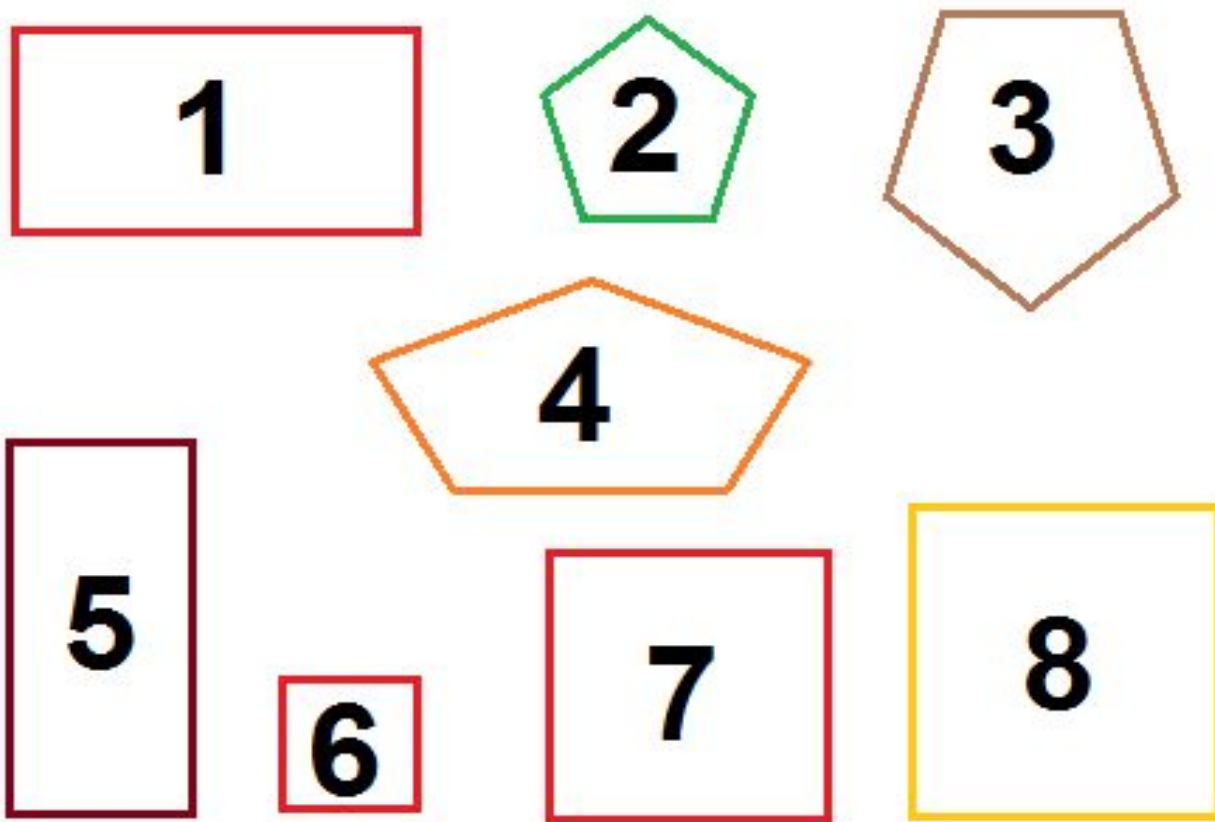


Назови номера фигур:

а) четырехугольники;

б) пятиугольники;

в) квадраты.



**Сумма трёх чётных чисел равна 12.
Определите, какие это числа, если известно,
что слагаемые не равны между собой.**

- **1) $1+5+6=12$;**
- **2) $2+4+6=12$;**
- **3) $4+4+4=12$.**



Какой корень пропущен в словах?

-----ный, -----а, -----яной, -----ица.

- 1) лес-;
- 2) вод-;
- 3) изб-.

