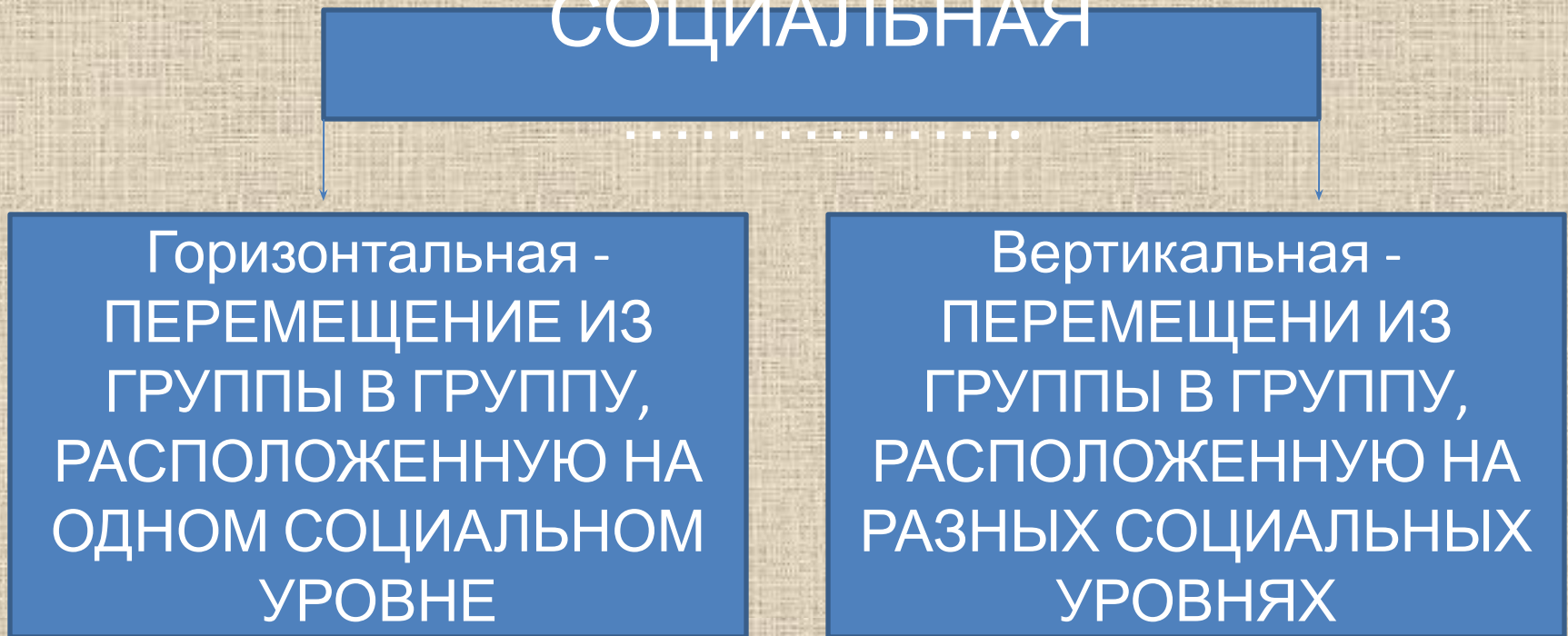


Задания
ЕГЭ
Варианты
В1

Запишите слово, пропущенное в схеме СОЦИАЛЬНАЯ



Ответ: **МОБИЛЬНОС
ТЬ**

Запишите слово пропущенное в

схеме
ВИДЫ

ЭКОНОМИЧЕСКОЙ
ДЕЯТЕЛЬНОСТИ

```
graph TD; A[ВИДЫ ЭКОНОМИЧЕСКОЙ ДЕЯТЕЛЬНОСТИ] --> B[ПРОИЗВОДСТВО]; A --> C[.....]; A --> D[РАСПРЕДЕЛЕНИЕ]
```

ПРОИЗВОДСТВО

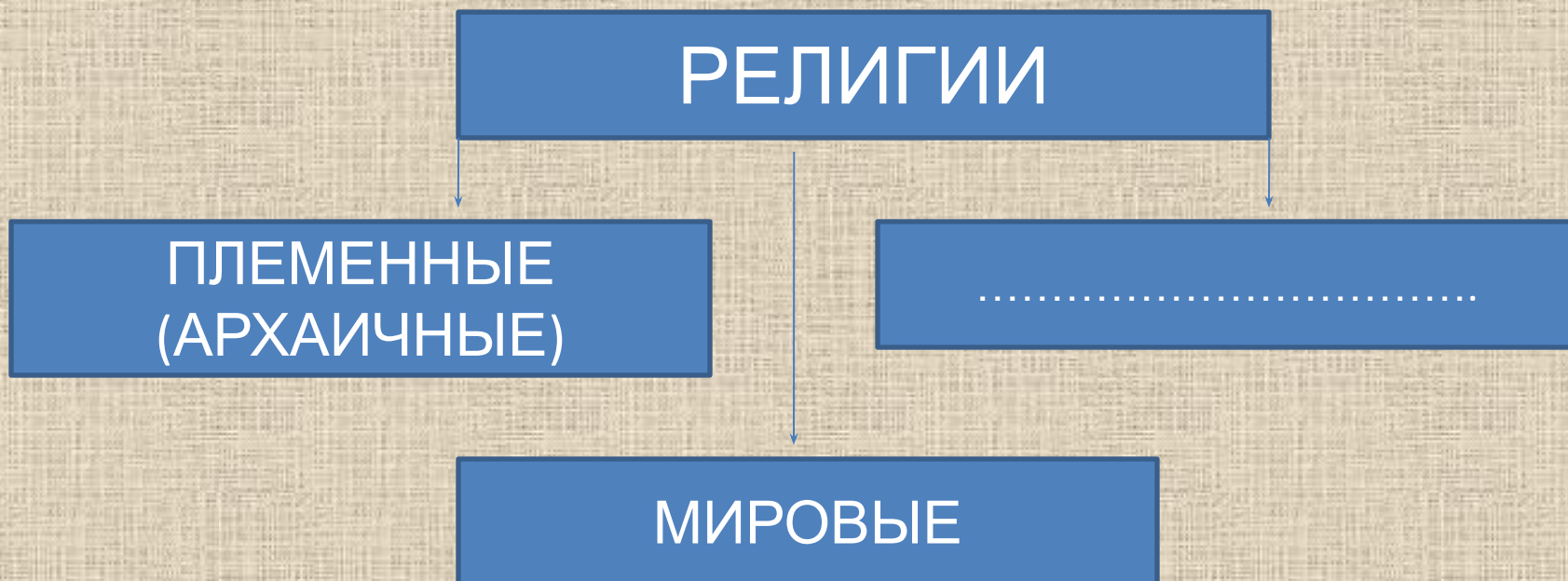
.....

РАСПРЕДЕЛЕНИЕ

Ответ:

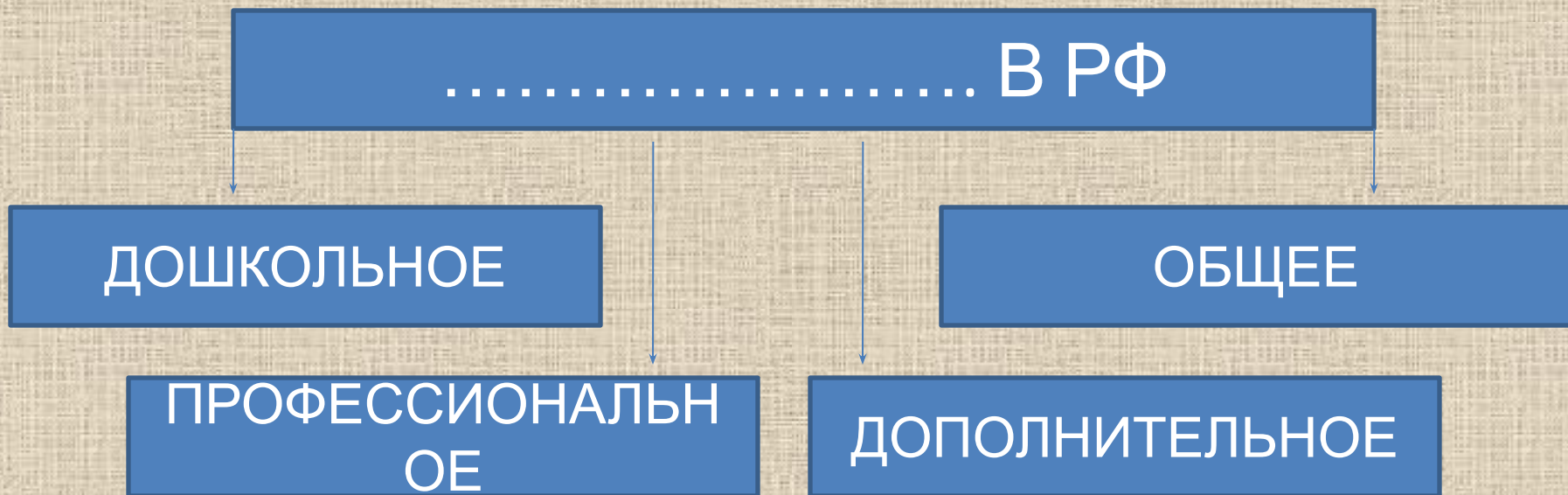
**ПОТРЕБЛЕН
ИЕ**

Запишите слово, пропущенное в
схеме



ОТВЕТ: **НАЦИОНАЛЬН
ЫЕ**

Запишите слово, пропущенное в
схеме



ОТВЕТ: **ОБРАЗОВАНИЕ**

Запишите слово, пропущенное в
схеме

ГОСУДАРСТВЕННЫЙ

```
graph TD; A[ГОСУДАРСТВЕННЫЙ] -.-> B[СТАТЬИ ДОХОДОВ]; A -.-> C[СТАТЬИ РАСХОДОВ];
```

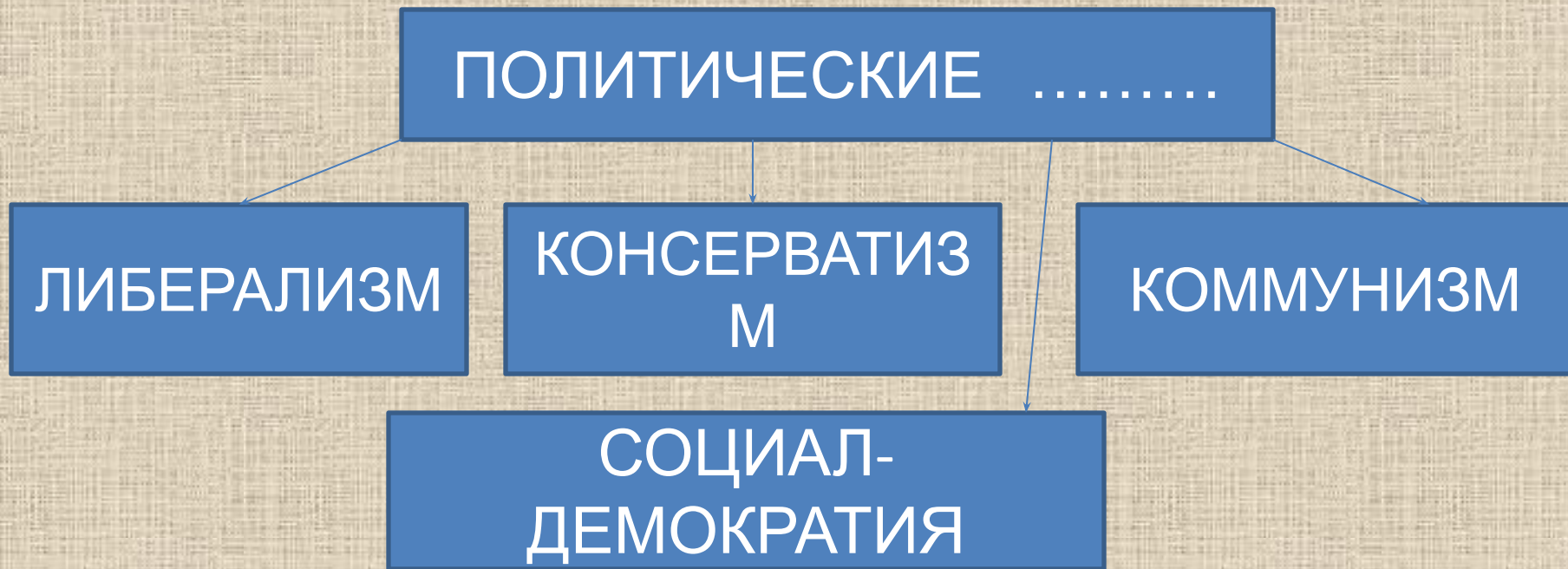
СТАТЬИ ДОХОДОВ

СТАТЬИ РАСХОДОВ

ОТВЕТ:

**БЮДЖ
ЕТ**

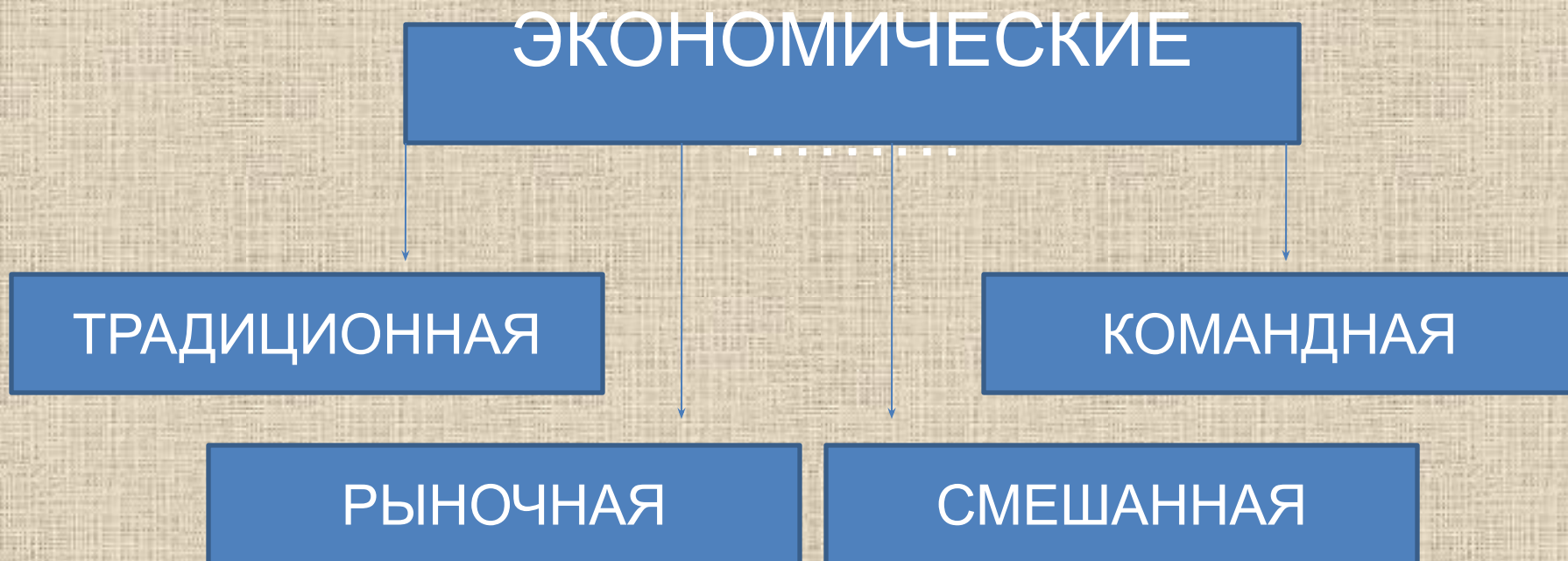
Запишите слово пропущенное в
схеме.



Ответ: **ИДЕОЛОГ**

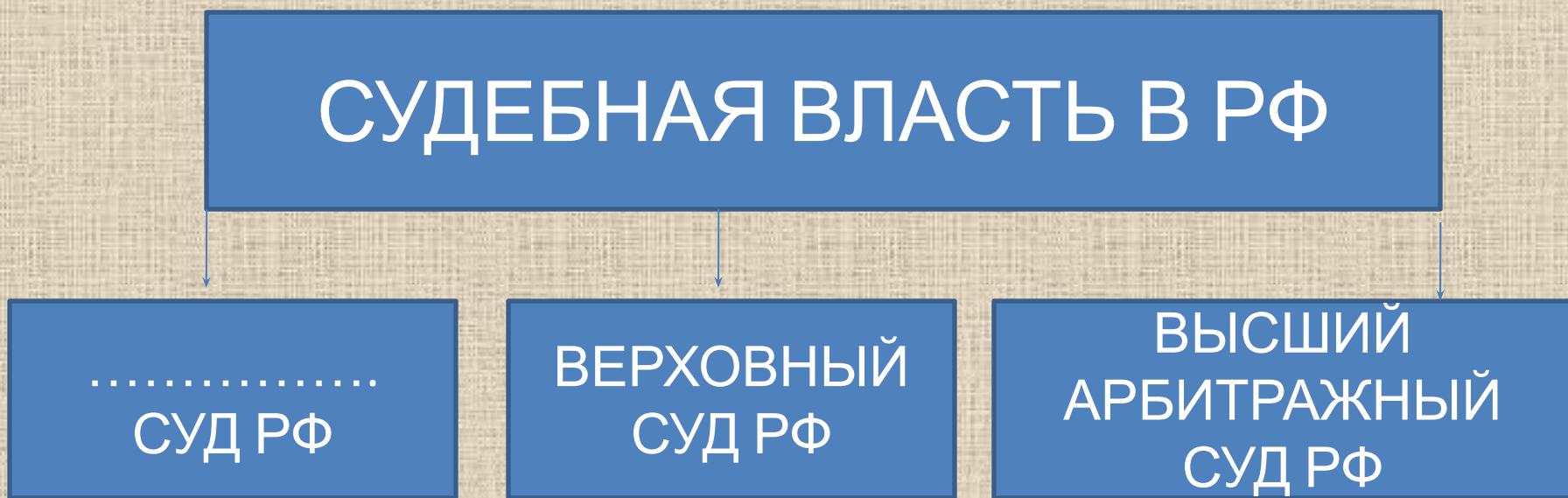
ИИ

Запишите слово, пропущенное в
схеме



ОТВЕТ: СИСТЕМ

Запишите слово, пропущенное в
схеме



ОТВЕТ: **КОНСТИТУЦИОНН
ЫЙ**

Запишите слово, пропущенное в
схеме



ОТВЕТ: **СЕМЬ**
Я

Запишите слово, пропущенное в
схеме

ВИДЫ СОЦИАЛЬНОЙ
СТРАТИФИКАЦИИ

```
graph TD; A[ВИДЫ СОЦИАЛЬНОЙ СТРАТИФИКАЦИИ] --> B[ПОЛИТИЧЕСКАЯ]; A --> C[ПРОФЕССИОНАЛЬНАЯ]; A --> D[.....];
```

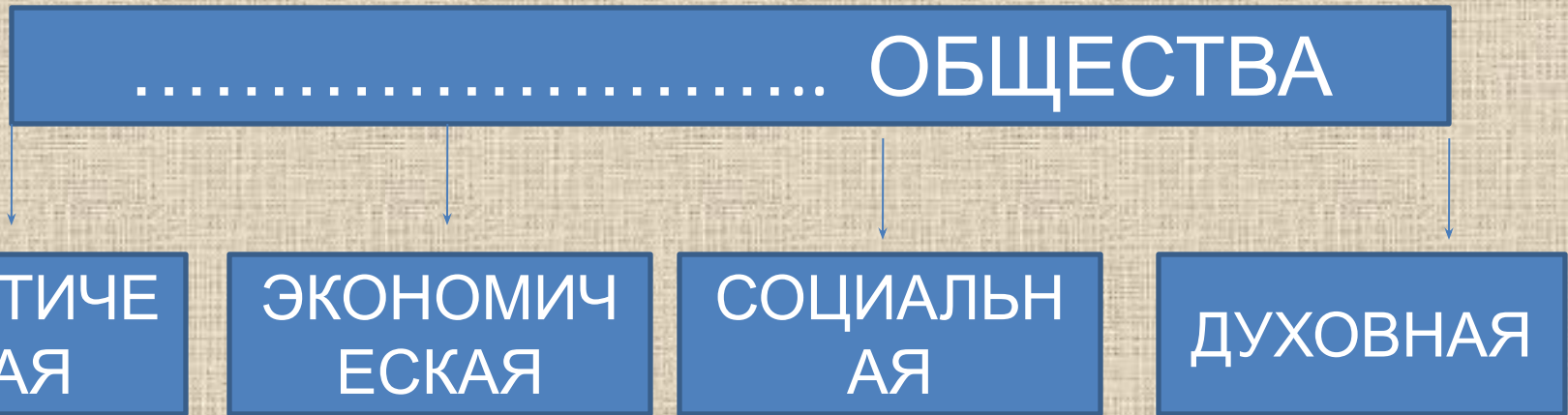
ПОЛИТИЧЕСКАЯ

ПРОФЕССИОНАЛЬНА
Я

.....

ОТВЕТ: ЭКОНОМИЧЕСКАЯ

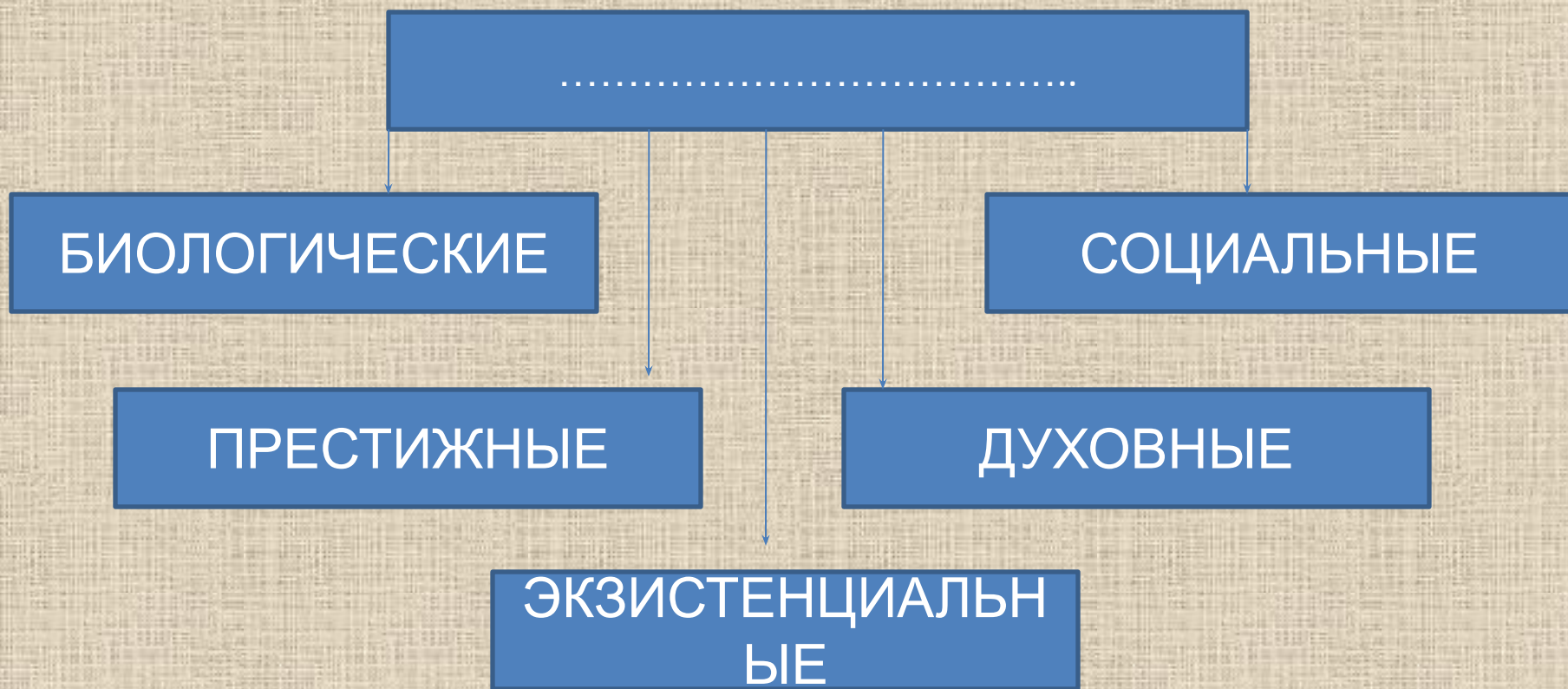
Запишите слово, пропущенное в
схеме



ОТВЕТ:

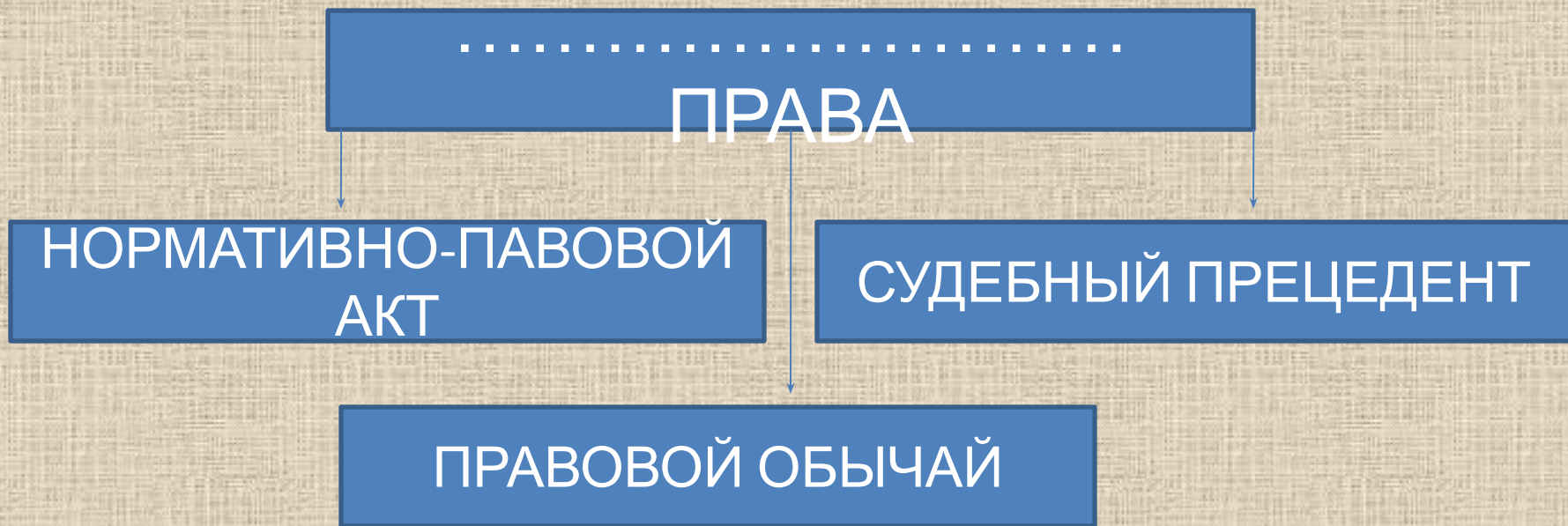
**СФЕРЫ
(ПОДСИСТЕМЫ)**

Запишите слово, пропущенное в
схеме



ОТВЕТ: **ПОТРЕБНОС
ТИ**

Запишите слово, пропущенное в
схеме



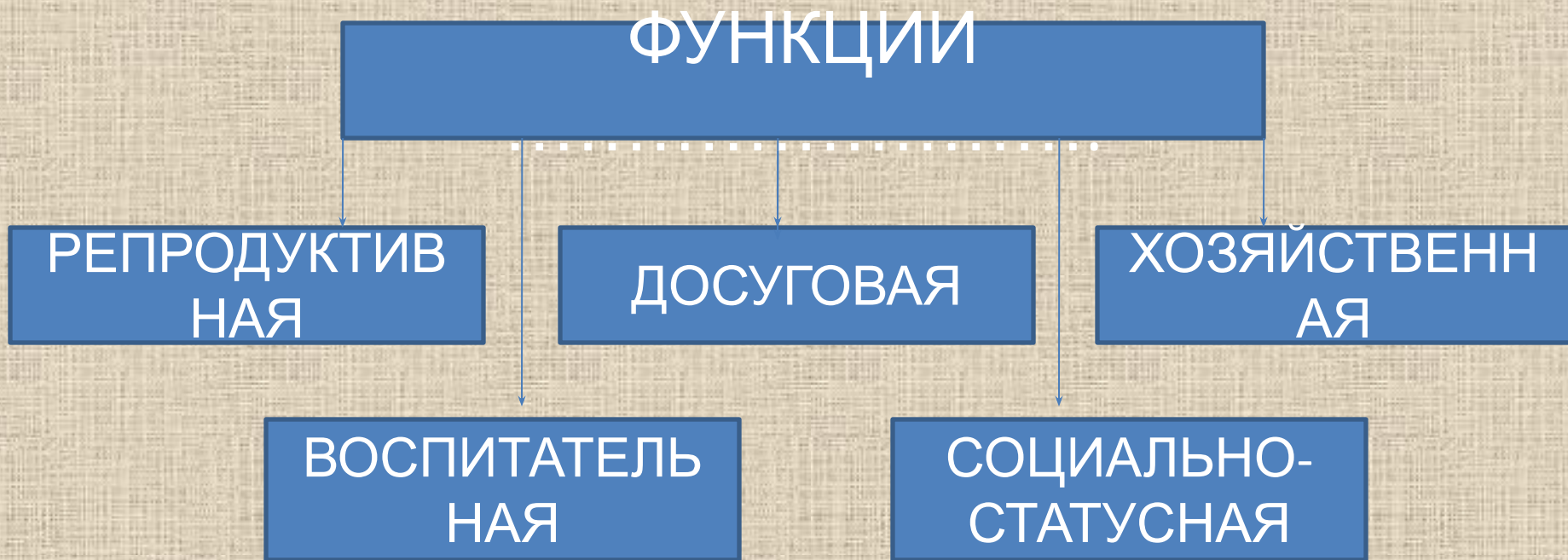
ОТВЕТ: **ИСТОЧНИКИ**

Запишите слово, пропущенное в
схеме



ОТВЕТ: **ПРЯМЫЕ**
Е

Запишите слово, пропущенное в
схеме




ОТВЕТ: **СЕМЬ**
И

Запишите слово, пропущенное в
схеме



ОТВЕТ: **НАРОДНОС
ТЬ**

Запишите слово, пропущенное в
схеме



ОТВЕТ: **ЭМПИРИЧЕСК
ИЙ**

Запишите слово, пропущенное в
схеме

СУБЪЕКТЫ ГРАЖДАНСКИХ
ПРАВООТНОШЕНИЙ

```
graph TD; A[СУБЪЕКТЫ ГРАЖДАНСКИХ ПРАВООТНОШЕНИЙ] --> B[ФИЗИЧЕСКИЕ ЛИЦА]; A --> C[.....]; C --> D[РОССИЙСКАЯ ФЕДЕРАЦИЯ]; C --> E[ЮРИДИЧЕСКИЕ ЛИЦА];
```

ФИЗИЧЕСКИЕ ЛИЦА

.....

РОССИЙСКАЯ
ФЕДЕРАЦИЯ

ОТВЕТ:

**ЮРИДИЧЕСКИЕ
ЛИЦА**

Запишите слово, пропущенное в
схеме



Ответ: **научно**
е

Запишите слово, пропущенное в
схеме

ОКРУЖАЮЩИЙ МИР

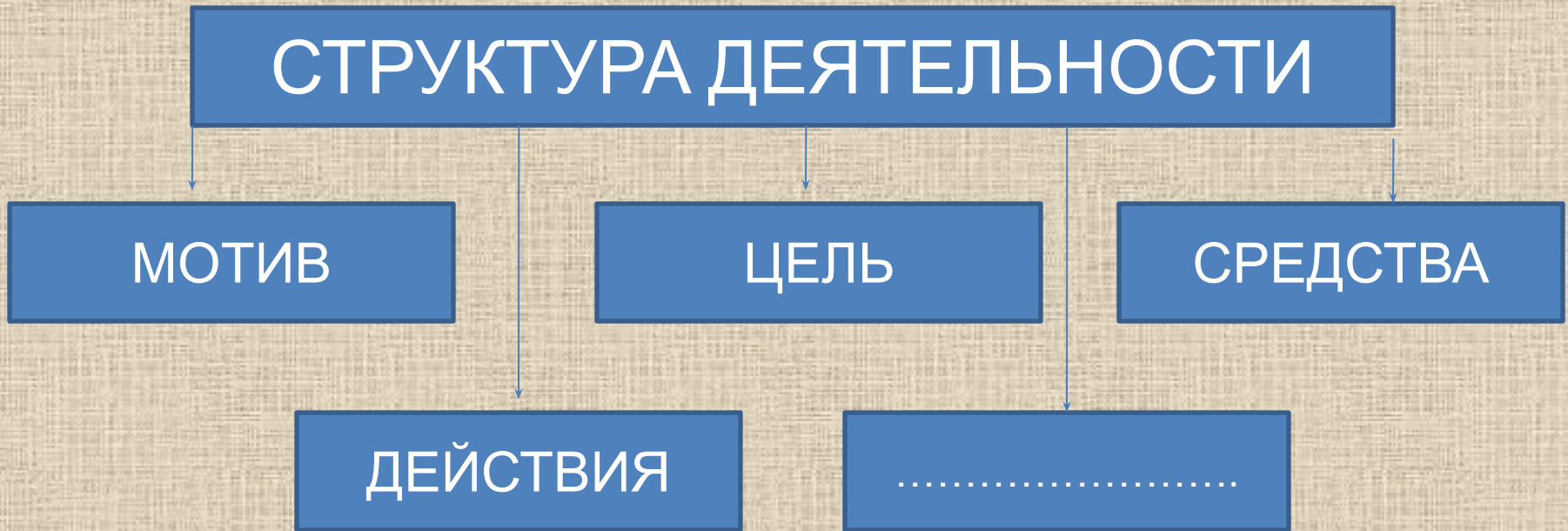
```
graph TD; A[ОКРУЖАЮЩИЙ МИР] --> B[ПРИРОДА]; A --> C[.....];
```

ПРИРОДА

.....

ОТВЕТ: **ОБЩЕСТ
ВО**

Запишите слово, пропущенное в
схеме



ОТВЕТ:

**РЕЗУЛЬ
ТАТ**

Запишите слово, пропущенное в

схеме

ОСНОВНЫЕ СТОРОНЫ
ЛИЧНОСТИ

```
graph TD; A[ОСНОВНЫЕ СТОРОНЫ ЛИЧНОСТИ] --> B[биологически обусловленные особенности]; A --> C[особенности отдельных психологических процессов]; A --> D[уровень подготовленности и опыт]; A --> E[..... обусловленные качества];
```

биологически
обусловленны
е
особенности

особенности
отдельных
психологиче
ских
процессов

уровень
подготовлен
ности и
опыт

.....
обусловленны
е качества

ОТВЕТ:

**СОЦИАЛЬ
НО**

Запишите слово, пропущенное в схеме

ПОЗНАНИЕ

ЧУВСТВЕННОЕ

ОЩУЩЕНИЕ
ВОСПРИЯТИЕ
ПРЕДСТАВЛЕНИЕ

.....
ПОНЯТИЕ
УМОЗАКЛЮЧЕНИЕ
СУЖДЕНИЕ

ОТВЕТ: РАЦИОНАЛЬН
ОЕ

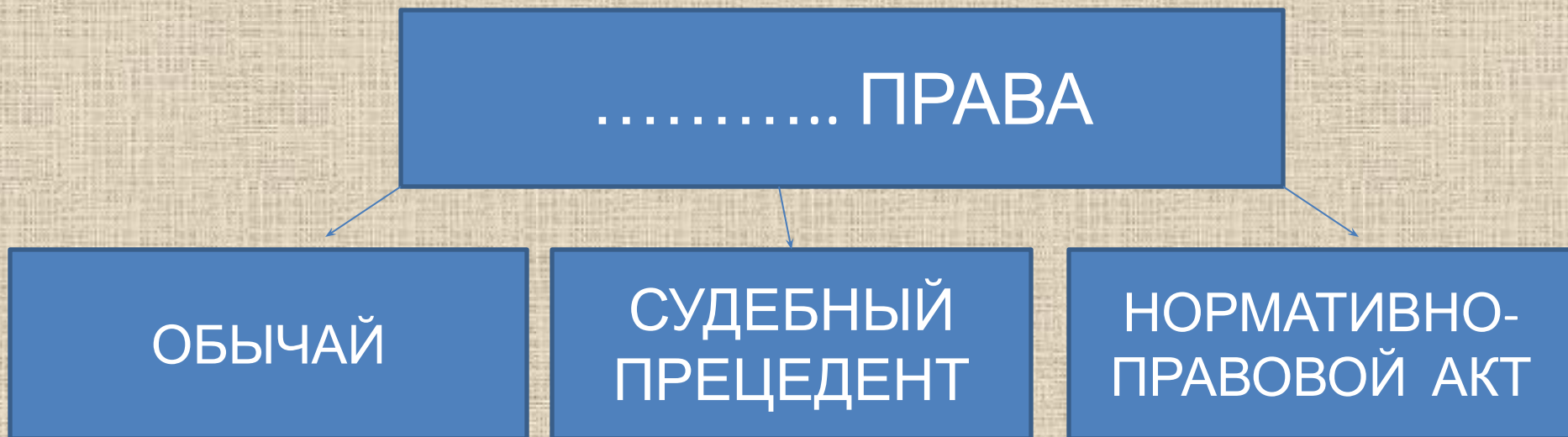
Запишите слово пропущенное в
схеме



Ответ:

**доход (уровень
доходов)**

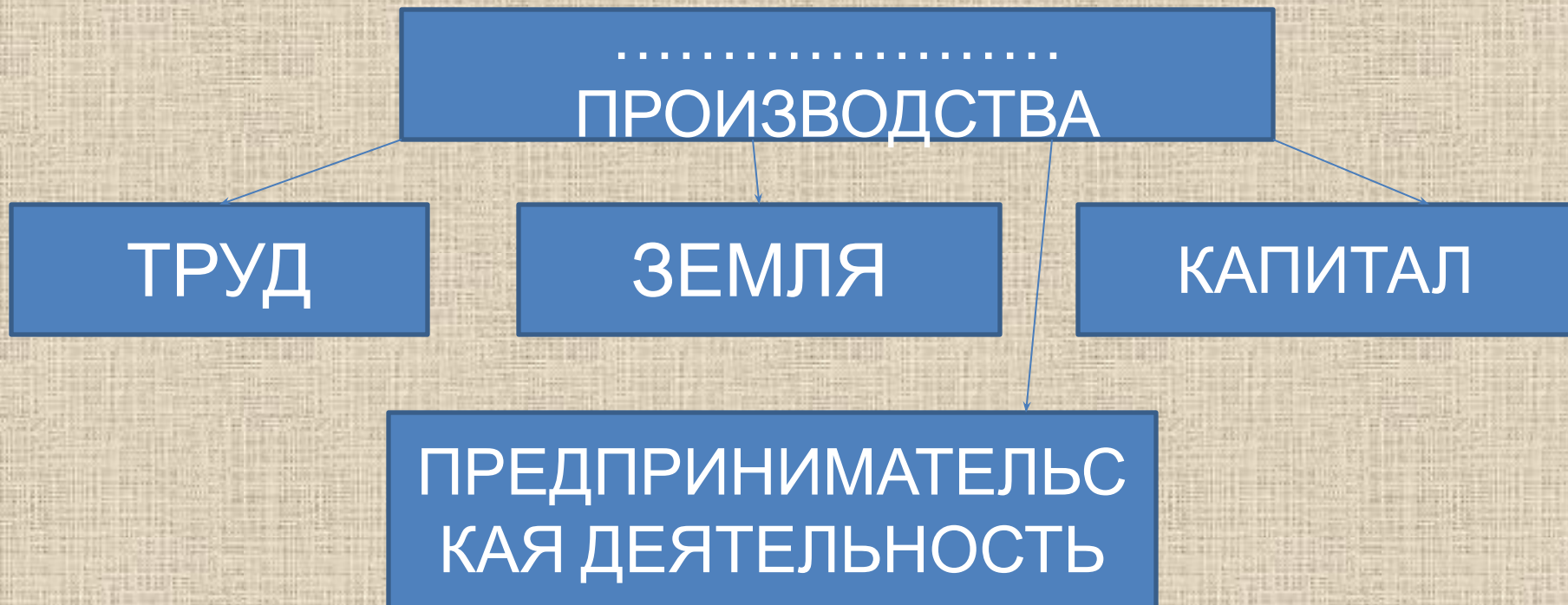
Запишите слово пропущенное в
схеме



Ответ:

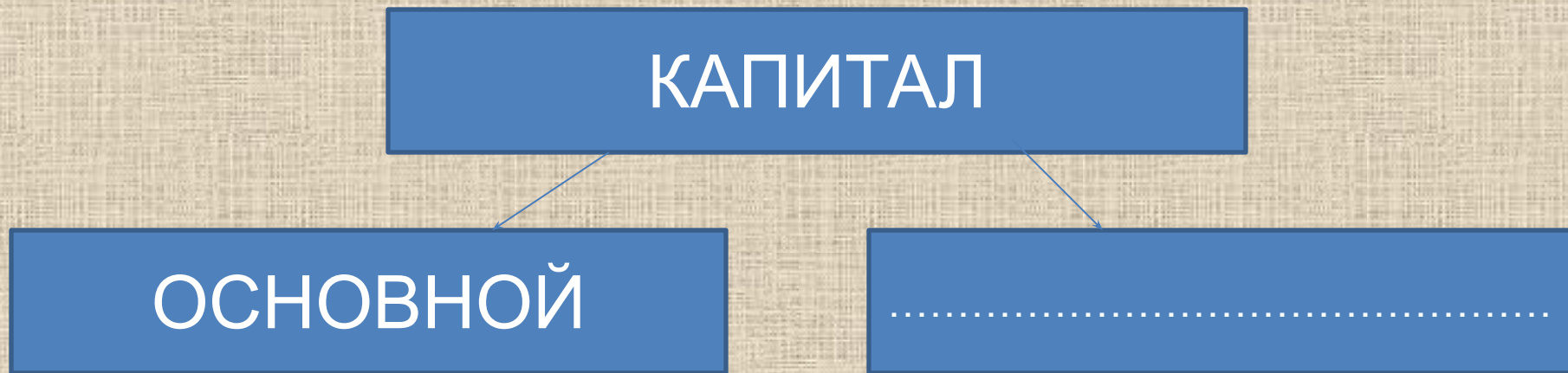
**ИСТОЧНИ
КИ**

Запишите слово пропущенное в
схеме.



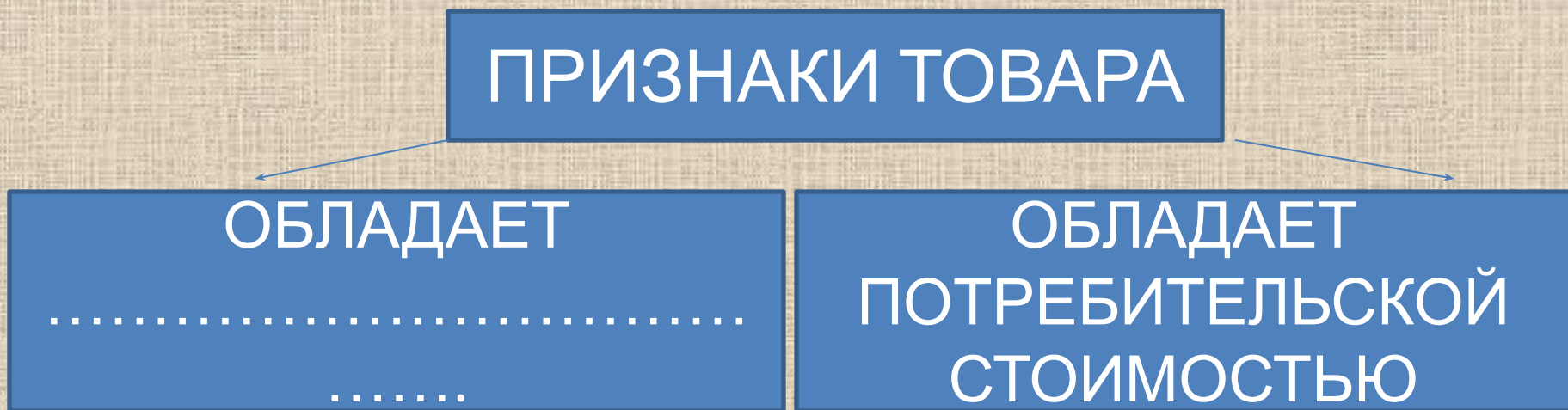
Ответ: **фактор**

Запишите слово пропущенное в
схеме



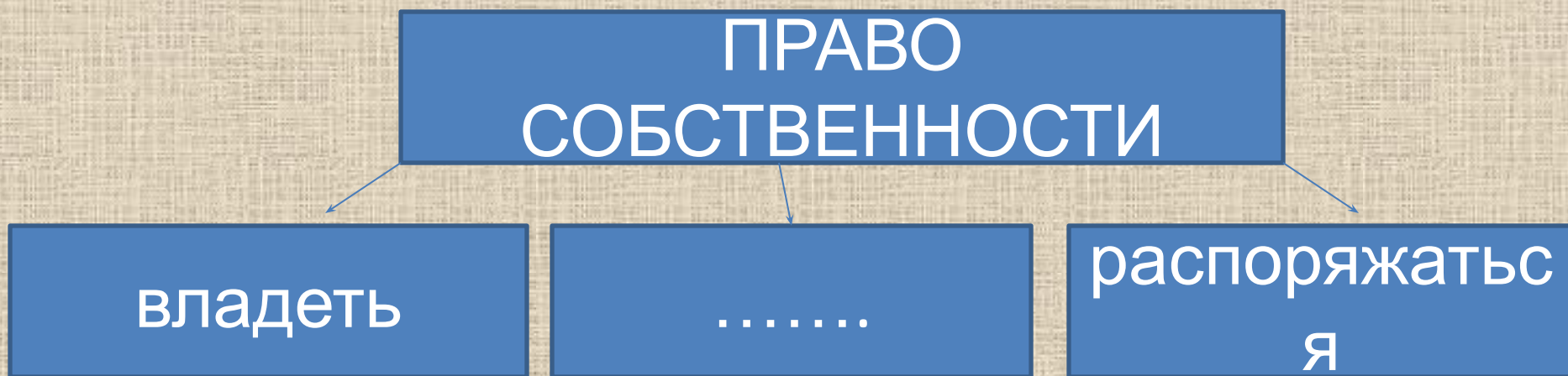
Ответ: **оборотный**

Запишите слово пропущенное в схеме



Ответ: **СТОИМОСТ**

Запишите слово пропущенное в
схеме



Ответ: **ПОЛЬЗОВАТЬ
СЯ**

Запишите слово, пропущенное в
схеме

ФОРМЫ СОБСТВЕННОСТИ В
РОССИЙСКОЙ ФЕДЕРАЦИИ
(ПО КОНСТИТУЦИИ РФ)

ЧАСТНАЯ

ГОСУДАРСТВЕН
НАЯ

.....

Ответ: **муниципальн**

за

Запишите слово, пропущенное в
схеме

КОНКУРЕНЦИЯ

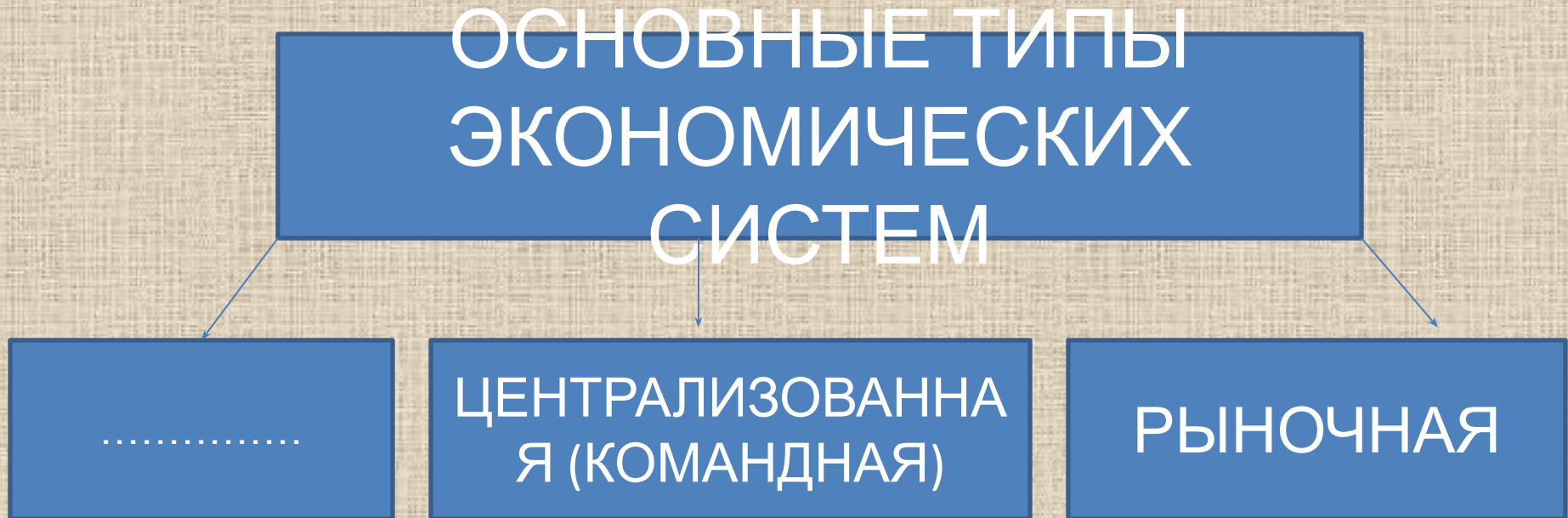
```
graph TD; A[КОНКУРЕНЦИЯ] --> B[СВОБОДНАЯ (ЧИСТАЯ)]; A --> C[.....];
```

СВОБОДНАЯ
(ЧИСТАЯ)

.....

Ответ: **несовершенн
ая**

Запишите слово, пропущенное в
схеме



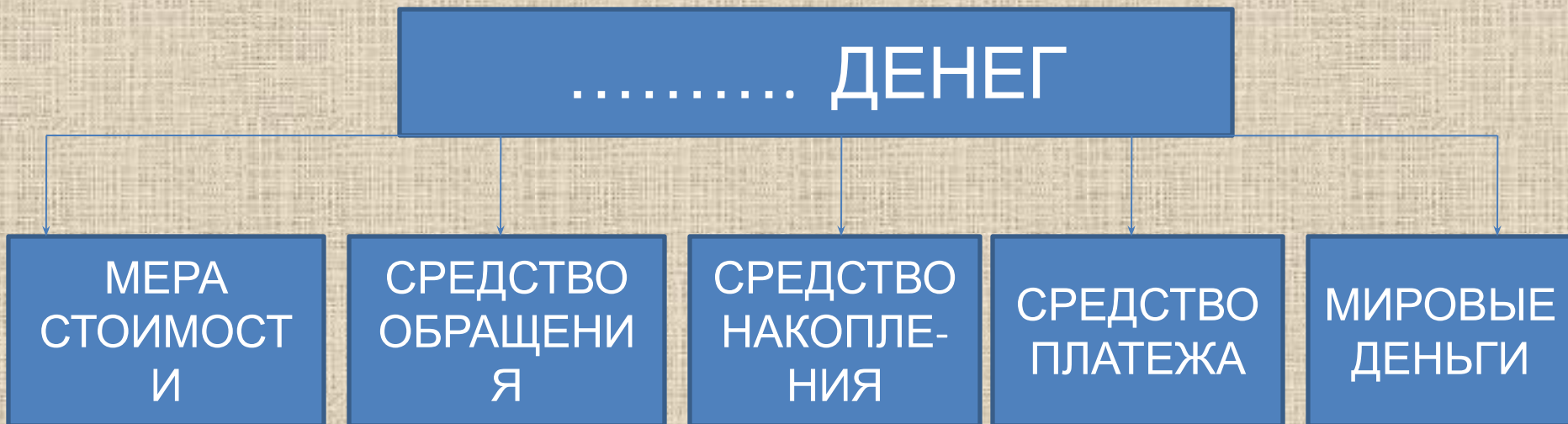
Ответ: **традиционн
ая**

Запишите слово, пропущенное в
схеме



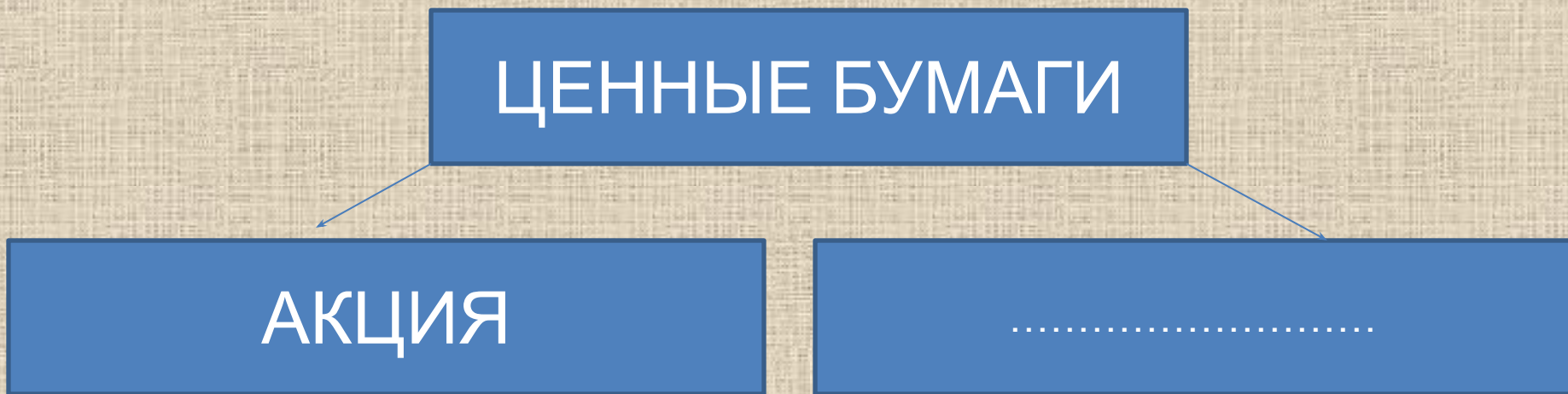
Ответ: **ОЛИГОПОЛ
ИИ**

Запишите слово, пропущенное в схеме



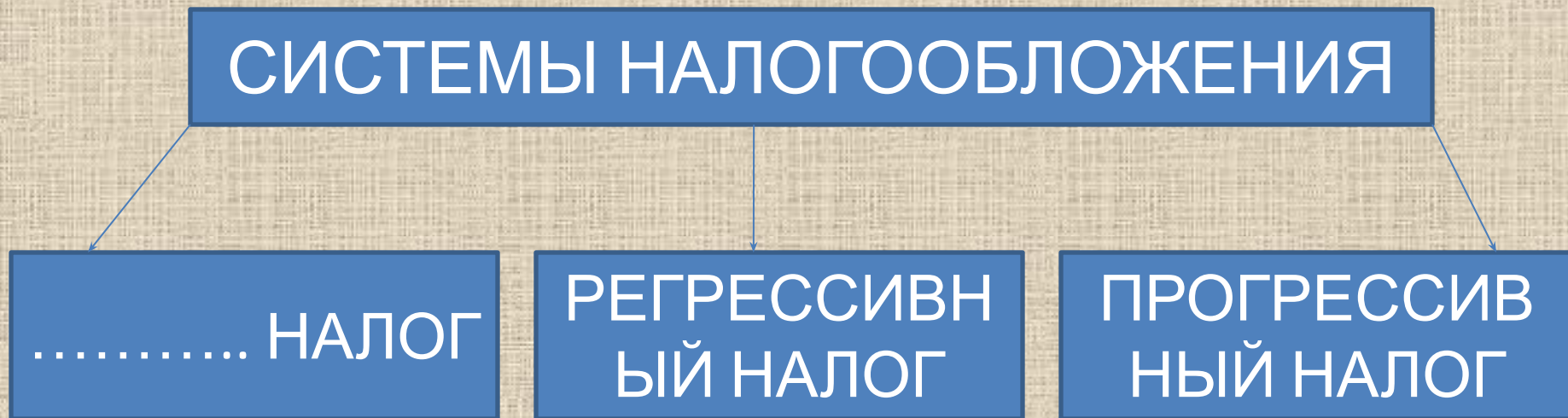
Ответ: **функции**
и

Запишите слово, пропущенное в
схеме



Ответ: **облигац
ия**

Запишите слово, пропущенное в
схеме



Ответ:

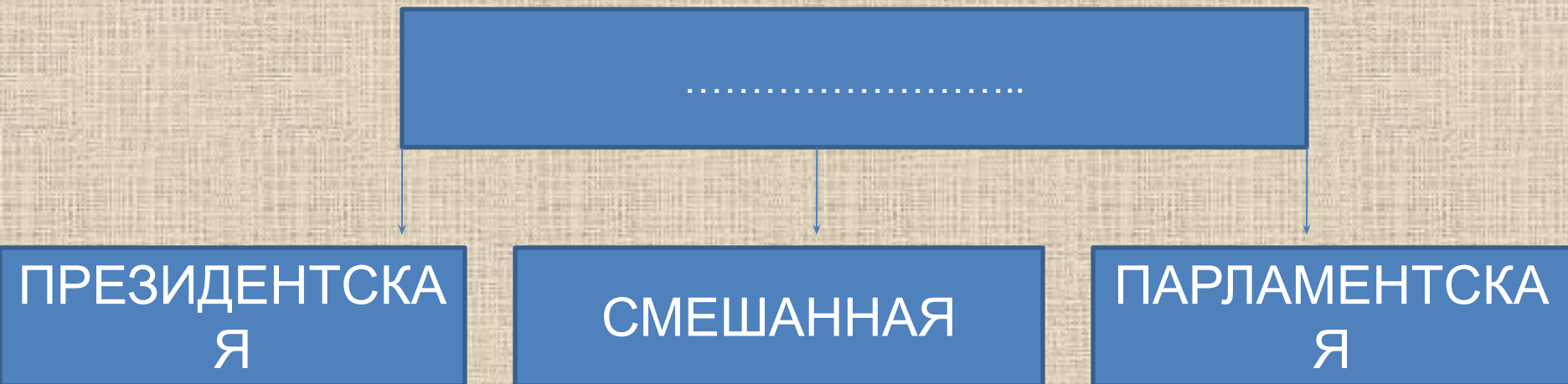
**пропорциональн
ый**

Запишите слово, пропущенное в
схеме



ОТВЕТ: **ЗАКОН**
ы

Запишите слово, пропущенное в схеме



ОТВЕ
Т:

**РЕСПУБЛИ
КА**

Запишите слово, пропущенное в
схеме



Ответ: **ПРЯМЫЕ**

Запишите слово, пропущенное в
схеме

ВНЕШНЕТОРГОВАЯ
ПОЛИТИКА
ГОСУДАРСТВА

```
graph TD; A[ВНЕШНЕТОРГОВАЯ ПОЛИТИКА ГОСУДАРСТВА] --> B[.....]; A --> C[УМЕРЕННАЯ ТОРГОВАЯ ПОЛИТИКА]; A --> D[ФРИТРЕДЕРСТВО]
```

УМЕРЕННАЯ
ТОРГОВАЯ
ПОЛИТИКА

ФРИТРЕДЕРСТВ
О

Ответ: **протекциониз**

М

Запишите слово, пропущенное в
схеме

ПОЛИТИЧЕСКИЙ РЕЖИМ

```
graph TD; A[ПОЛИТИЧЕСКИЙ РЕЖИМ] --> B[ДЕМОКРАТИЧЕСКИЙ]; A --> C[.....]; A --> D[ТОТАЛИТАРНЫЙ]
```

ДЕМОКРАТИЧЕС
КИЙ

.....

ТОТАЛИТАРНЫ
Й

ОТВЕ
Т:

АВТОРИТАРН
ЫЙ

Запишите слово, пропущенное в
схеме



Ответ: РЕАЛЬН
АЯ

Запишите слово, пропущенное в
схеме

ОСНОВНЫЕ СФЕРЫ ОБЩЕСТВЕННОЙ
ЖИЗНИ

ЭКОНОМИЧЕСКАЯ

.....

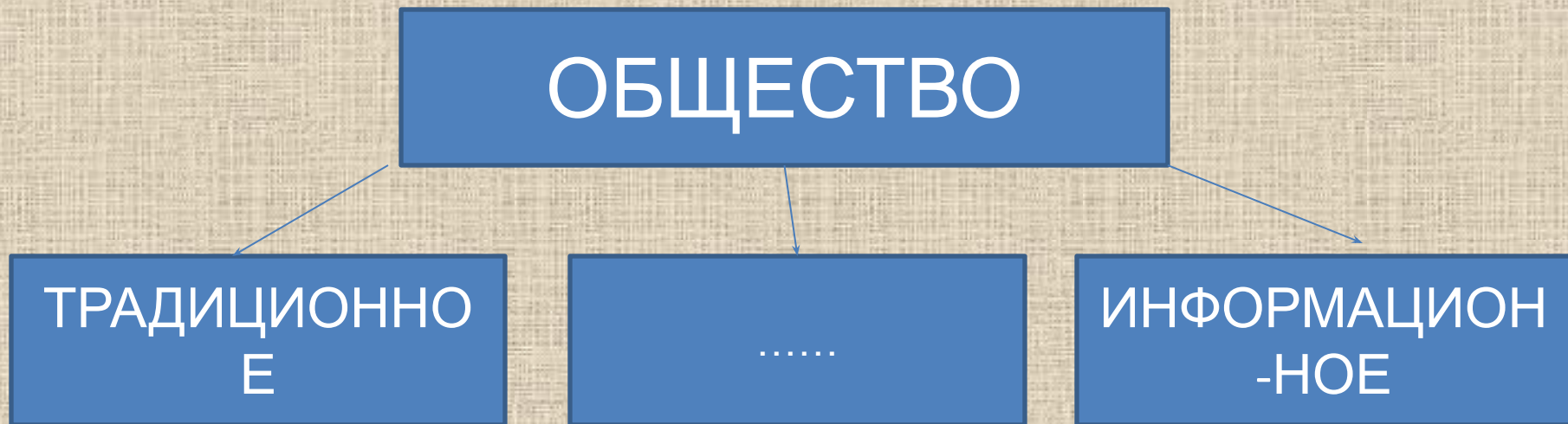
ПОЛИТИЧЕСКАЯ

ДУХОВНАЯ

Ответ:

СОЦИАЛЬНАЯ

Запишите слово, пропущенное в
схеме



Ответ:

ИНДУСТРИАЛЬНОЕ

Запишите слово, пропущенное в схеме



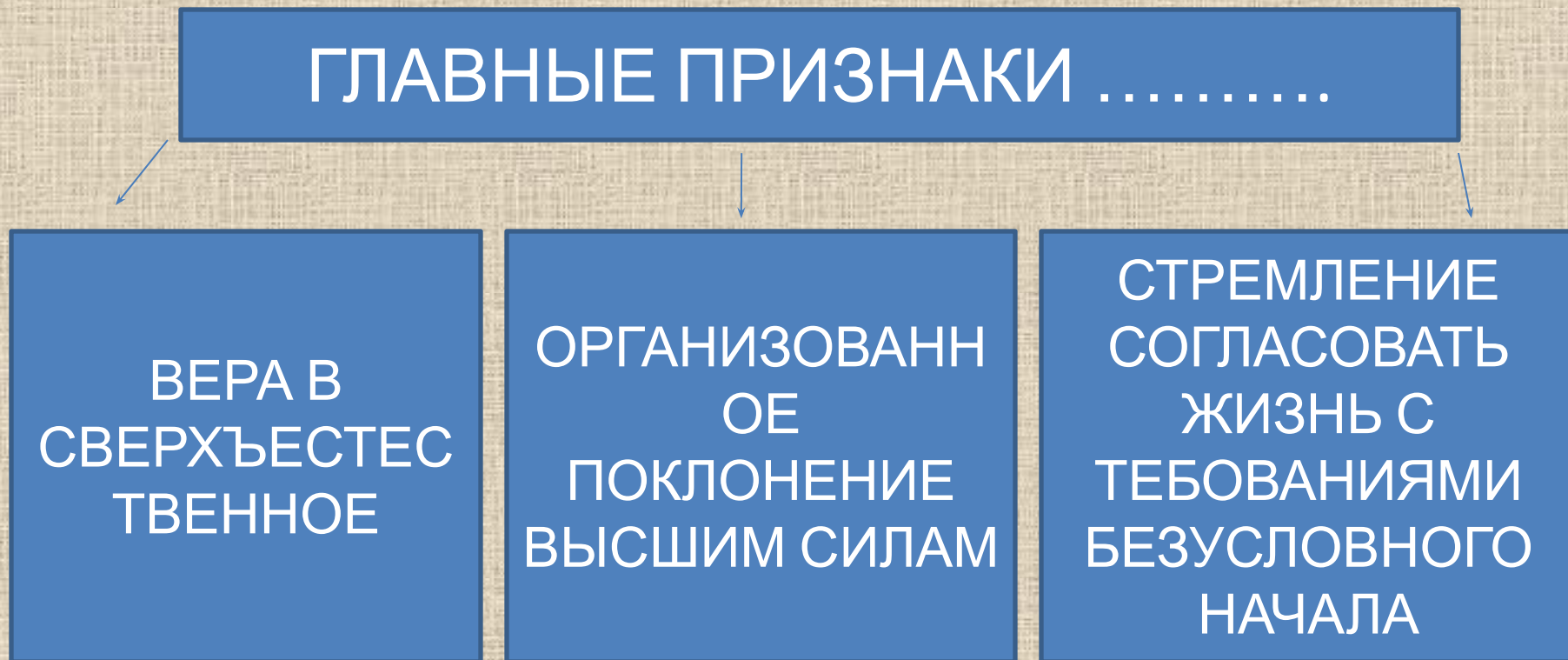
Ответ: **НАУК**
А

Запишите слово, пропущенное в
схеме



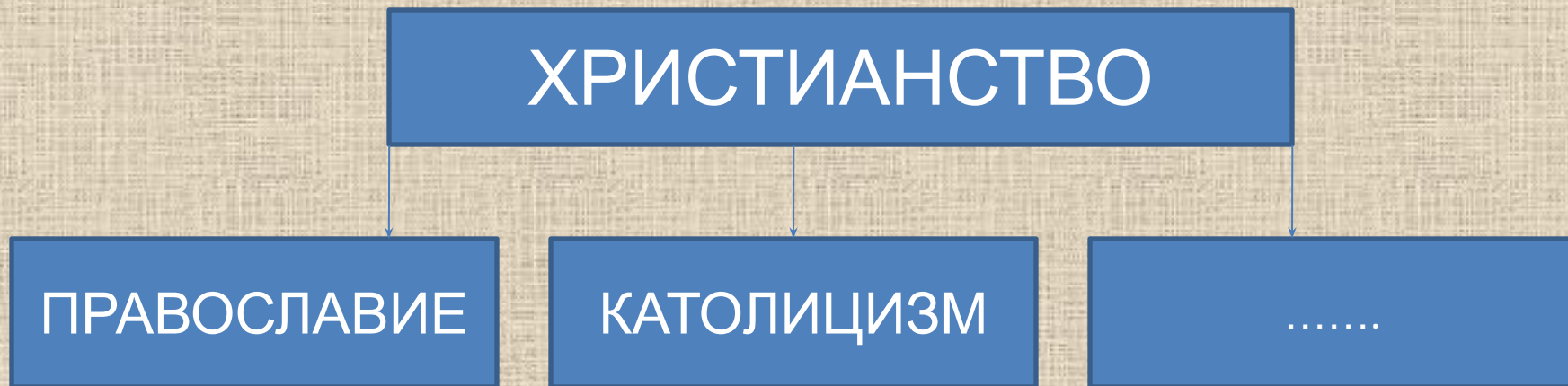
Ответ: **ЕСТЕСТВОЗНА
НИИ**

Запишите слово, пропущенное в схеме



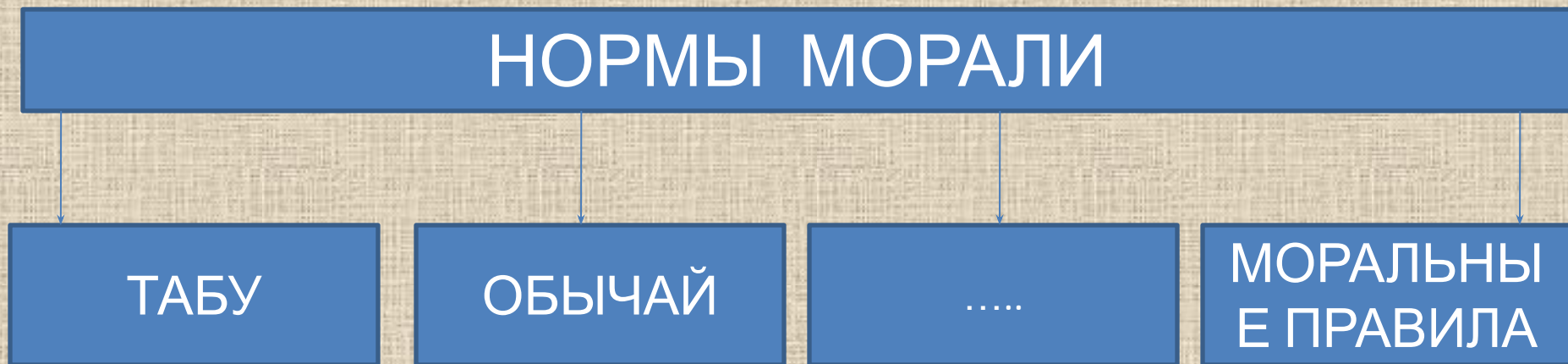
Ответ: **РЕЛИГИИ**

Запишите слово, пропущенное в
схеме



Ответ: **ПРОТЕСТАНТИ**
ЗМ

Запишите слово, пропущенное в
схеме



ОТВЕТ:

**ТРАДИЦ
ИЯ**

Запишите слово, пропущенное в
схеме

ТИПЫ ПОЛИТИЧЕСКОЙ ВЛАСТИ

```
graph TD; A[ТИПЫ ПОЛИТИЧЕСКОЙ ВЛАСТИ] --> B[ТРАДИЦИОННЫ Й]; A --> C[ЛЕГАЛЬНЫЙ]; A --> D[.....]
```

ТРАДИЦИОННЫ
Й

ЛЕГАЛЬНЫЙ

.....

ОТВЕТ: **ХАРИЗМАТИЧЕС
КИЙ**

Запишите слово, пропущенное в
схеме



ОТВЕТ: **ПРАВИТЕЛЬСТВО**

Запишите слово, пропущенное в
схеме

ФОРМА ПРАВЛЕНИЯ

```
graph TD; A[ФОРМА ПРАВЛЕНИЯ] --> B[МОНАРХИЯ]; A --> C[.....];
```

МОНАРХИЯ

.....

ОТВЕТ: **РЕСПУБЛИ
КА**

Запишите слово, пропущенное в
схеме



ОТВЕТ: **МОНАРХИ**
Я

Запишите слово, пропущенное в
схеме



ОТВЕТ: **УЧРЕЖДЕН
ИЯ**

Запишите слово, пропущенное в
схеме



ОТВЕТ: **МАЖОРИТАРНАЯ**

Запишите слово, пропущенное в
схеме



ОТВЕТ: **ЛИБЕРАЛИЗМ**

Запишите слово, пропущенное в схеме

ПОТРЕБНОСТИ ЧЕЛОВЕКА

```
graph TD; A[ПОТРЕБНОСТИ ЧЕЛОВЕКА] --> B[БИОЛОГИЧЕСКИЕ  
(Органические,  
материальные)]; A --> C[.....]; A --> D[ДУХОВНЫЕ  
(Идеальные,  
познавательные)];
```

БИОЛОГИЧЕСКИЕ
(Органические,
материальные)

.....

ДУХОВНЫЕ
(Идеальные,
познавательные)

ОТВЕТ: **СОЦИАЛЬНЫЕ**

Запишите слово, пропущенное в

схеме

ВИДЫ ДЕЯТЕЛЬНОСТИ, В КОТОРЫЕ
НЕИЗБЕЖНО ВКЛЮЧАЕТСЯ КАЖДЫЙ
ЧЕЛОВЕК В ПРОЦЕССЕ СВОЕГО
ИНДИВИДУАЛЬНОГО РАЗВИТИЯ

ИГРА

ОБЩЕНИЕ

УЧЕНИЕ

.....

ОТВЕТ:

ТРУ

Д

Запишите слово, пропущенное в
схеме



ОТВЕТ: **МЫШЛЕН
ИЯ**

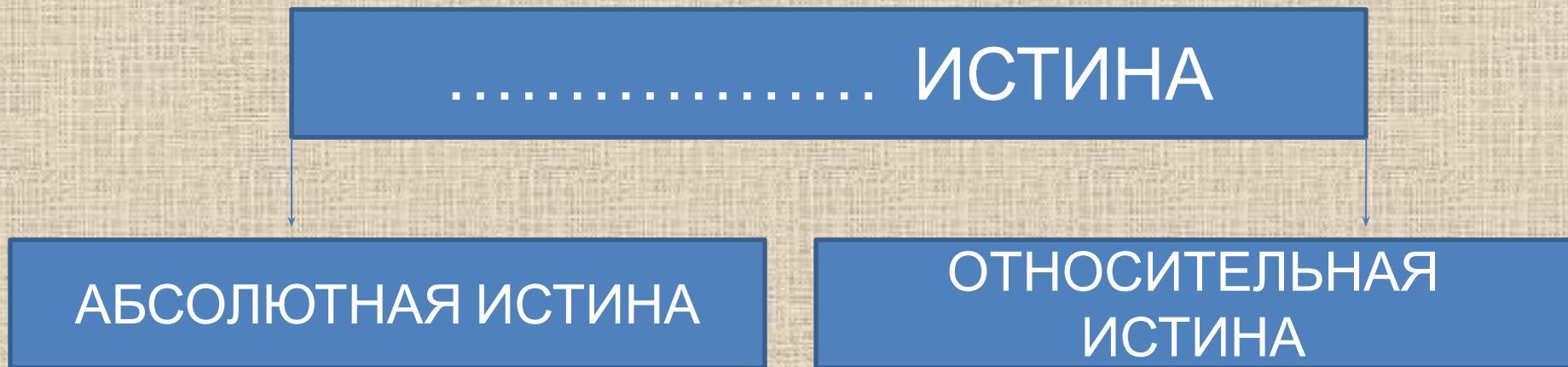
Запишите слово, пропущенное в
схеме



ОТВЕ
Т:

**МИРОВОЗЗРЕН
ИЯ**

Запишите слово, пропущенное в
схеме



ОТВЕ

Т:

**ОБЪЕКТИВН
АЯ**

Запишите слово, пропущенное в
схеме

СТРУКТУРА ПРАВОВОЙ НОРМЫ

```
graph TD; A[СТРУКТУРА ПРАВОВОЙ НОРМЫ] --> B[.....]; A --> C[ДИСПОЗИЦИЯ]; A --> D[САНКЦИЯ];
```

.....

ДИСПОЗИЦИЯ

САНКЦИЯ

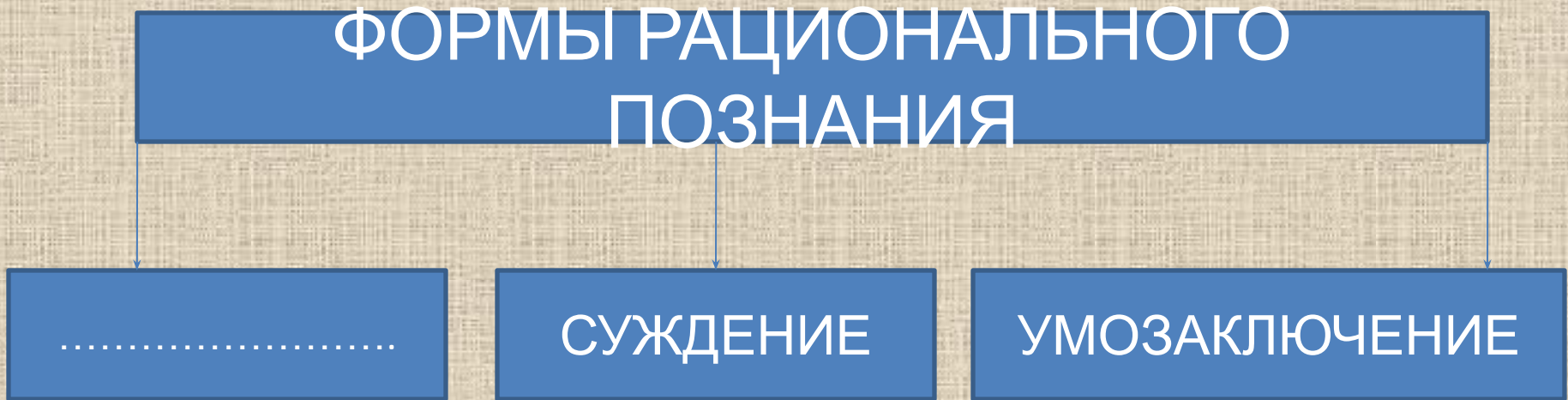
ОТВЕ

Т:

ГИПОТЕ

ЗА

Запишите слово, пропущенное в
схеме



ОТВЕТ: ПОНЯТ
ИЕ

Запишите слово, пропущенное в

схеме

НАУКИ, ДАЮЩИЕ
НАИБОЛЕЕ ОБЩИЕ
ЗНАНИЯ ОБ
ОБЩЕСТВЕ

```
graph TD; A[НАУКИ, ДАЮЩИЕ НАИБОЛЕЕ ОБЩИЕ ЗНАНИЯ ОБ ОБЩЕСТВЕ] --> B[ФИЛОСОФИЯ]; A --> C[.....]
```

ФИЛОСОФИЯ

.....

ОТВЕТ:

**СОЦИОЛОГ
ИЯ**

Запишите слово, пропущенное в
схеме

СУЩНОСТНЫЕ ЧЕРТЫ
ПОЛИТИЧЕСКОЙ ВЛАСТИ

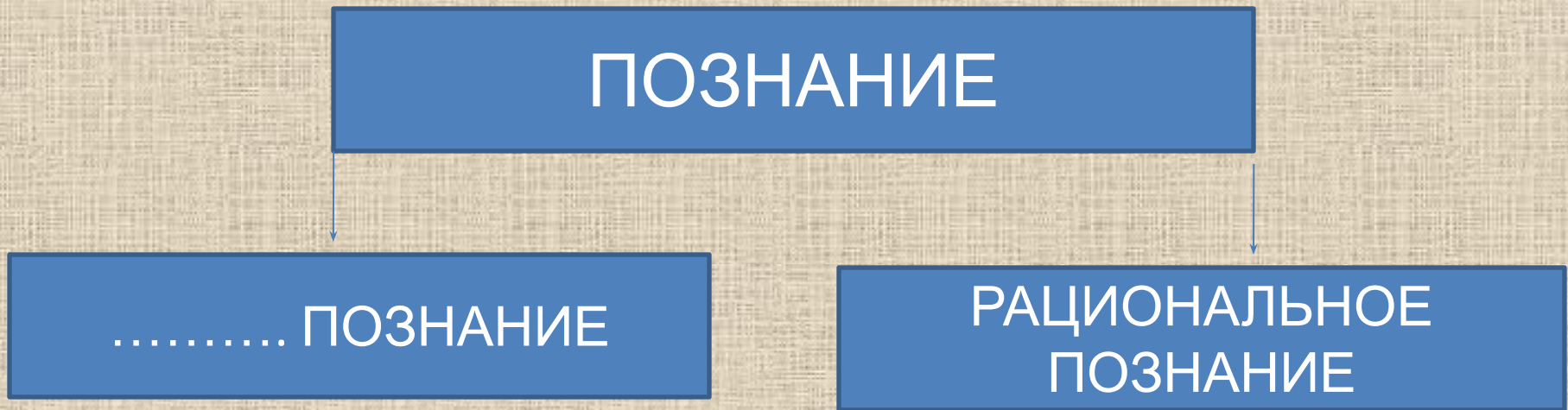
```
graph TD; A[СУЩНОСТНЫЕ ЧЕРТЫ ПОЛИТИЧЕСКОЙ ВЛАСТИ] --> B[.....  
...]; A --> C[СПОСОБЫ ПРИНУЖДЕНИЯ]; A --> D[ЛЕГИТИМНОСТЬ]
```

СПОСОБЫ
ПРИНУЖДЕНИЯ

ЛЕГИТИМНОСТЬ

ОТВЕТ: СУВЕРЕННО
СТЬ

Запишите слово, пропущенное в
схеме



ОТВЕТ: **ЧУВСТВЕНН
ОЕ**

Запишите слово, пропущенное в
схеме

.....
ОТНОШЕНИЯ

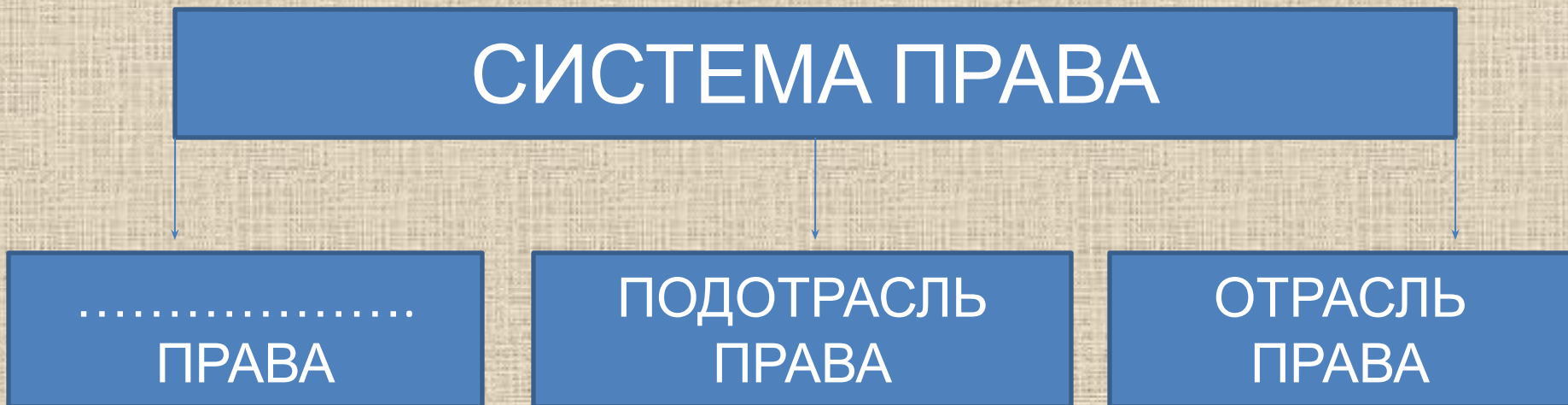
ОТНОШЕНИЯ МЕЖДУ
РАЗНЫМИ
НАЦИОНАЛЬНОСТЯМИ
ВНУТРИ ОДНОГО
ГОСУДАРСТВА

ОТНОШЕНИЯ МЕЖДУ
РАЗНЫМИ НАЦИЯМИ-
ГОСУДАРСТВАМИ

ОТВЕ
Т:

**МЕЖНАЦИОНАЛЬН
ЫЕ**

Запишите слово, пропущенное в
схеме



ОТВЕ
Т: **ИНСТИТ
УТ**

Запишите слово, пропущенное в
схеме

ПОЛИТИЧЕСКИЕ

```
graph TD; A[ПОЛИТИЧЕСКИЕ] --> B[СОЦИАЛ-ДЕМОКРАТИЯ]; A --> C[ЛИБЕРАЛИЗМ]; A --> D[КОНСЕРВАТИЗМ]; A --> E[КОММУНИЗМ];
```

СОЦИАЛ-
ДЕМОКРАТИЯ

ЛИБЕРАЛИЗМ

КОНСЕРВАТИЗМ

КОММУНИЗМ

ОТВЕТ: **ИДЕОЛОГ
ИИ**

Запишите слово, пропущенное в
схеме



ОТВЕТ: **ФЕДЕРАЛЬН
ЫЕ**

Запишите слово, пропущенное в
схеме

СТРУКТУРА ПРАВООТНОШЕНИЯ

```
graph TD; A[СТРУКТУРА ПРАВООТНОШЕНИЯ] --> B[СУБЪЕКТ (СТОРОНА) ПРАВООТНОШЕНИЯ]; A --> C[ОБЪЕКТ ПРАВООТНОШЕНИЯ]; A --> D[..... ПРАВООТНОШЕНИЯ];
```

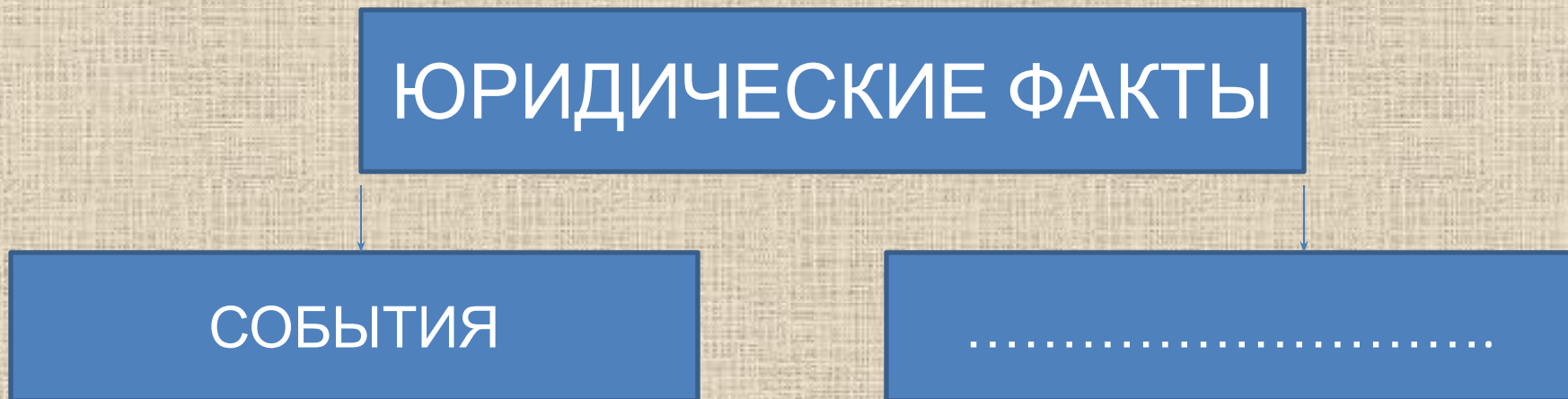
СУБЪЕКТ
(СТОРОНА)
ПРАВООТНОШЕН
ИЯ

ОБЪЕКТ
ПРАВООТНОШЕН
ИЯ

.....
ПРАВООТНОШЕН
ИЯ

ОТВЕТ: **СОДЕРЖАНИЕ**

Запишите слово, пропущенное в
схеме



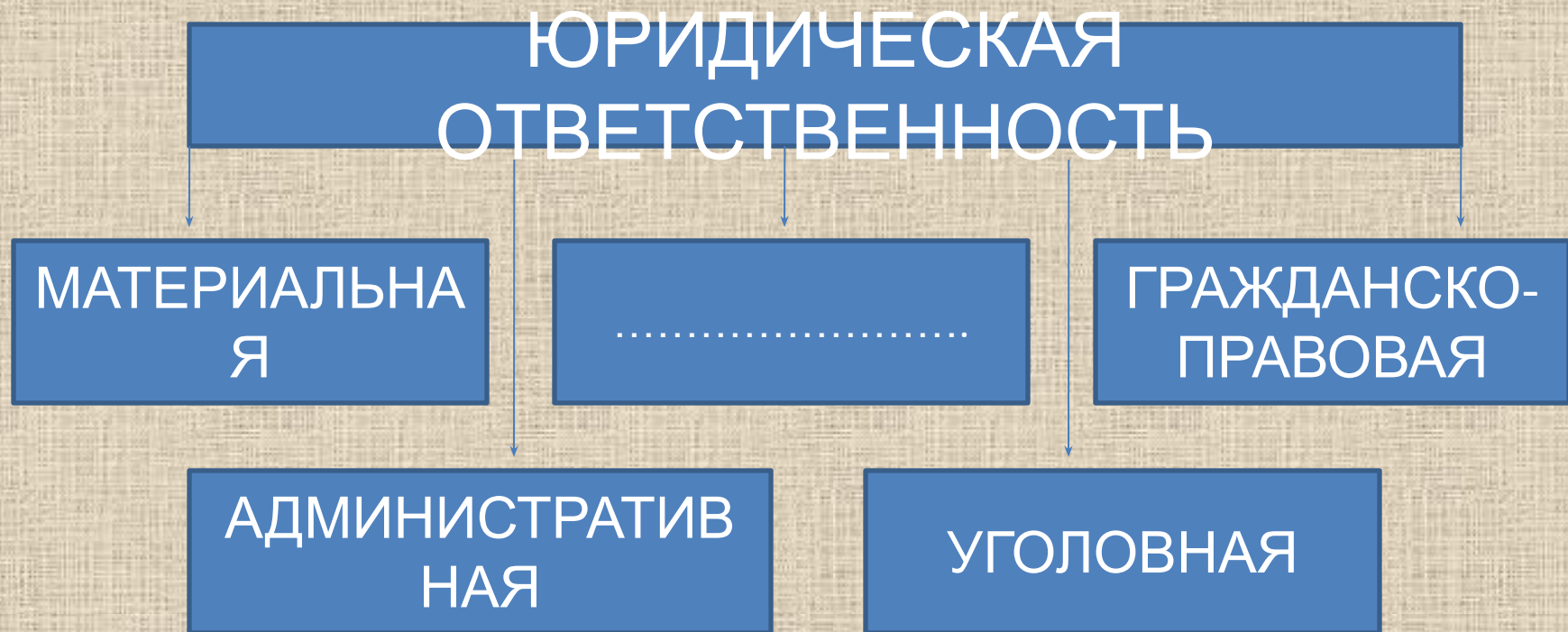
ОТВЕТ: **ДЕЙСТВИЯ**

Запишите слово, пропущенное в
схеме



ОТВЕТ: **ПРОСТУП
КИ**

Запишите слово, пропущенное в
схеме



ОТВЕТ: **ДИСЦИПЛИНАРНАЯ**

Запишите слово, пропущенное в
схеме



ОТВЕТ: **ПОЛИТИЧЕСКИЕ**

Запишите слово, пропущенное в

схеме

ФОРМЫ НАЦИОНАЛЬНОЙ
ГОСУДАРСТВЕННОСТИ НАРОДОВ
РОССИИ

РЕСПУБЛИК
А

АВТОНОМНАЯ
ОБЛАСТЬ

АВТОНОМНЫЙ
.....

ОТВЕТ: **ОКРУ**

Г

Запишите слово, пропущенное в
схеме



ОТВЕТ: **ДЕЙСТВИЯ**

Запишите слово, пропущенное в

схеме

СТАТУСЫ, ОПРЕДЕЛЯЕМЫЕ
ПОЛОЖЕНИЕМ ИНДИВИДА В
ГРУППЕ

СОЦИАЛЬНЫЙ СТАТУС

..... СТАТУС

ОТВЕТ: ЛИЧНЫ
Й

Запишите слово, пропущенное в
схеме

ГЛАВНЫЕ ВОПРОСЫ
ЭКОНОМИКИ

```
graph TD; A[ГЛАВНЫЕ ВОПРОСЫ ЭКОНОМИКИ] --> B[ЧТО ПРОИЗВОДИТЬ?]; A --> C[.....]; A --> D[ДЛЯ КОГО ПРОИЗВОДИТЬ?];
```

ЧТО
ПРОИЗВОДИТЬ?

.....

ДЛЯ КОГО
ПРОИЗВОДИТЬ?

ОТВЕТ:

**КАК
ПРОИЗВОДИТЬ?**